

**KAMU PERSONEL SEÇME SINAVI**  
**LİSANS**  
**GENEL YETENEK TESTİ – GENEL KÜLTÜR TESTİ**  
**- 1 -**

**DİKKAT!**

**SINAVA BAŞLAMADAN ÖNCE AŞAĞIDAKİ UYARILARI MUTLAKA OKUYUNUZ.**

1. Adınızı, soyadınızı, T.C. Kimlik Numaranızı ve sınav salon numaranızı aşağıya yazınız.

ADINIZ	:	.....
SOYADINIZ	:	.....
T.C. KİMLİK NUMARANIZ	:	.....
SINAV SALON NO	:	.....

2. Genel Yetenek Testi ve Genel Kültür Testi için verilen **toplam** cevaplama süresi **120 dakikadır (2 saat)**.
3. Genel Yetenek Testi ve Genel Kültür testlerinin her birinde **60 soru** vardır. Toplam **120 soru** bulunmaktadır.
4. Cevaplamaya istediğiniz testten ve sorudan başlayabilirsiniz. Her soru ile ilgili cevabınızı, cevap kâğıdında o soru için ayrılmış olan yere işaretlemeyi unutmayınız.
5. **Testler puanlanırken her testteki doğru cevaplarınızın sayısından yanlış cevaplarınızın sayısının dörtte biri düşülecek ve kalan sayı o testle ilgili ham puanınız olacaktır. Bu nedenle, hakkında hiçbir fikrinizin olmadığı soruları boş bırakınız. Ancak, soruda verilen seçeneklerden birkaçını eleyebiliyorsanız kalanlar arasından doğru cevabı kestirmeye çalışmanız yararınıza olabilir.**

Bu testlerin her hakkı saklıdır. Hangi amaçla olursa olsun, testlerin tamamının veya bir kısmının Aymir Yayınevi'nin yazılı izni olmadan kopya edilmesi, fotoğrafının çekilmesi, herhangi bir yolla çoğaltılması, yayımlanması ya da kullanılması yasaktır. Bu yasağa uymayanlar gerekli cezai sorumluluğu ve testlerin hazırlanmasındaki mali külfeti peşinen kabullenmiş sayılır.



1. Aşağıdaki cümlelerin hangisindeki altı çizili bölümle ondan sonraki bölüm anlamca birbirine yakındır?

- A) Aynı şiirleri sürekli okumakla şiir zevkimizi köreltiriz; bu durum, şiir beğenimizin donup kalıplaşmasına yol açar.
- B) İnsana ruhunun varlığını ve duygularını hatırlatır tiyatro, insanın hayatla olan bağlantılarını deşerek hayata tutunmasını sağlar.
- C) Evrensel bir sanat dalı olan müzik, anlatım olanaklarının sınırlılığını ancak şiirle aşar; şiirle el ele verdiğinde etki gücünü daha da pekiştirir.
- D) Çocuklar için hazırlanmış çizgi filmler büyüklerin izledikleri programlara göre daha fazla şiddet içeriyor, böylece çocuklar zamanla şiddete karşı duyarsızlaşıyor.
- E) Öykü ve roman arasındaki farkın uzunluk kısalıkla hiçbir ilgisi yoktur, bu farkın nedeni türlerin yapısal özellikleridir.

2. (I) Uyandığınızda günü selamlayın, kollarınızı ve bacaklarınızı açarak rahatlayın. (II) Günü kucaklayın ki o da sizi kucaklasın. (III) Yataktan kalkar kalkmaz kendinize bir bardak ılık su hazırlayın. (IV) Bu suyu içip metabolizmanızı harekete geçirin ve çok aç olma hâlimden kurtulun. (V) Egzersiz yapmadan önce de mutlaka hafif bir kahvaltı yapın. (VI) Aç karnına spor yapmak son derece zararlıdır.

**Bu parçadaki numaralanmış cümlelerden hangisi kendinden önceki cümlede dile getirilen yargıyı açıklamaktadır?**

- A) II. B) III. C) IV. D) V. E) VI.

3. ABD'deki bilim insanlarının yaptığı son araştırmalar; dişlerinde çürük olan yetişkinlerin boyun ya da baş kanserine yakalanma riskinin, dişlerinde hiç çürük olmayan yetişkinlerinkinden %40 daha az olduğunu gösterdi.

**Bu cümleden aşağıdaki yargıların hangisi kesin olarak çıkarılabilir?**

- A) Boyun ya da baş kanserine yakalanma olasılığı, yaş ilerledikçe artmaktadır.
- B) Dişlerinde çürük olan yetişkinlerin boyun ya da baş kanserine yakalanma olasılığı, dişlerinde hiç çürük olmayan yetişkinlerinkinden düşüktür.
- C) Boyun ya da baş kanserinin en önemli belirtisi, diş çürükleridir.
- D) Boyun ya da baş kanserinin erişkinlerde görülme oranı daha küçük yaş gruplarının toplamına yakındır.
- E) Boyun ya da baş kanseri, diş çürüklerinden kaynaklanmakta olup dişlerin düzenli fırçalanmasının hastalıktan korunmada etkisi vardır.

4. Havaalanı tasarımı, yapımı ve işletmeciliği alanında da faaliyet gösteren X İnşaat Grubu; İzmir'deki havaalanının yeni terminalinin inşaatı sırasında, eski terminalden sökülen malzemelerin %70'ini geri dönüştürerek yeni terminalin yapım çalışmalarında kullandı.

**Bu cümleden aşağıdaki yargıların hangisi kesin olarak çıkarılabilir?**

- A) X İnşaat Grubu, yaptığı bütün inşaatlarda binlerce ton hafriyatı yeniden kullanmaktadır.
- B) X İnşaat Grubu'nun bütün projeleri, havacılık sektörüyle ilgilidir.
- C) X İnşaat Grubu, İzmir'deki havaalanının eski terminalinden sökülen malzemelerin yarısından fazlasını yapı döküntüsü olarak doğaya atılmaktan kurtarmıştır.
- D) X İnşaat Grubu, Türkiye'de adını çevre konusundaki duyarlılığıyla duyurmuştur.
- E) X İnşaat Grubu, bütün projelerini eski inşaatlardan çıkan binlerce ton hafriyatı yeni inşaatlarında kullanmak üzere programlamaktadır.

5. (I) Güneş, Güneş Sistemi'nin merkezinde yer alan bir yıldızdır. (II) Bu yıldız, tek başına Güneş Sistemi'nin kütesinin %99,8'ini oluşturur; geri kalan kütle, Güneş'in çevresinde döner. (III) Bu kütleler; gezegenler, asteroitler, gök taşları, kuyruklu yıldızlar ve kozmik tozlardan oluşur. (IV) Güneş'ten, gün ışığı şeklinde yayılan enerji, fotosentez yoluyla Dünya üzerindeki hayatın hemen tamamının var olmasını sağlar. (V) Bu enerji, aynı zamanda Dünya'nın iklimi üzerinde de çok önemli etkilerde bulunur.

**Güneş'i konu alan bu parçadaki numaralanmış cümlelerle ilgili olarak aşağıda verilenlerden hangisi yanlıştır?**

- A) I'ncide, sistemindeki konumu hakkında bilgi veriliyor.  
 B) II'ncide, Güneş Sistemi'nin tamamına yakınına oluşturduğu belirtiliyor.  
 C) III'üncüde, sistemindeki diğer kütleleri oluşturan maddeler sıralanıyor.  
 D) IV'üncüde, enerji kaynağının gün ışığı olduğuna değiniliyor.  
 E) V'incide, enerjisinin Dünya'daki hava olaylarını önemli ölçüde etkilediği dile getiriliyor.

L  
İ  
D  
E  
R  
Y  
A  
Y  
I  
N  
L  
A  
R  
I

6. "Ben bugüne kadar yaptığım başarılı işlerin hiçbirini 'desinler' diye yapmadım." **diyen biri aşağıdakilerden hangisini vurgulamaktadır?**
- A) Çalışırken başkalarının beğenisini değil, kendisininkini önemseydiğini  
 B) Göz boyamaktan hiç hoşlanmadığını  
 C) Başarının yolunun biraz da bencil olmaktan geçtiğini  
 D) Hakkındaki övgüleri pek umursamadığını  
 E) Gerçek başarının, kişiyle değil işiyle uğraşarak elde edilebileceğini

7. İlgili olmakla ilgili olmak arasında ince bir çizgi vardır, hayatın ustaları bunu çok iyi bilir.

**Bu cümledeki numaralanmış sözcük ya da sözlerle ilgili olarak aşağıda verilenlerden hangisi yanlıştır?**

- A) I'inci, isim-fiildir.  
 B) II'nci, sıfat tamlamasıdır.  
 C) III'üncü, ek-fiil olarak yüklem olmuş bir isimdir.  
 D) IV'üncü, isim tamlamasıdır.  
 E) V'inci, belgisiz zamirdir.

8. **Aşağıdaki atasözlerinin hangisinde yüklem ortaklığı söz konusudur?**

- A) Seyrek git sen dostuna, kalksın ayak üstüne.  
 B) Darı unundan baklava, incir ağacından oklava olmaz.  
 C) Dertliye dokun geç, fukaradan sakın geç.  
 D) Söyleyene bakma, söyletene bak.  
 E) Sev beni, seveyim seni.

9. Tavus kuşuna haddini bildiren, ayaklarıdır. **Bu cümlede aşağıdaki ses olaylarından hangisi vardır?**

- A) Ünsüz benzeşmesi (ünsüz sertleşmesi)  
 B) Hece düşmesi (ünlü düşmesi)  
 C) Ünsüz türemesi (ünsüz ikizleşmesi)  
 D) Ünsüz yumuşaması  
 E) Ünlü daralması

10. Aşağıdaki cümlelerin hangisindeki altı çizili sözcük, yapı bakımından ötekilerden farklıdır?

- A) Mektubu düzdün bir yazıyla yazmış.  
 B) Cambaz, gergin bir telin üstünde gösteriler yaptı.  
 C) Üzdün bir ifadeyle yüzüme baktı.  
 D) Zengin insan, her hâlden belli olur.  
 E) Eskiden Anadolu'da gezgin ozanlar varmış.

11. İzmir'de Osmanlı Devleti'nin son yadigârlarından

olan, Hatice Sultan tarafından 1775'de yaptırılan, Basmane Semsî'ndeki Kumrulu Mescit Camisi'nin restorasyonu İzmir İl Özel İdaresinin desteğiyle tamamlandı.

**Bu cümledeki numaralanmış sözlerin hangilerinde bir yazım yanlış vardır?**

- A) I. ve II.      B) I. ve III.      C) II. ve III.  
 D) III. ve V.      E) IV. ve V.

12. Kenya denince akla dört şey gelir : vahşi doğa, yırtıcı hayvanlar, ilkel kabileler, safari.

**Bu cümledeki numaralanmış noktalama işaretlerinden hangisi yanlış kullanılmıştır?**

- A) I.      B) II.      C) III.      D) IV.      E) V.

13. Aşağıdaki cümlelerin hangisinde bir anlatım bozukluğu vardır?

- A) Bunca yıl sonra onu göreceğimi hiç ummazdım.  
 B) Geri kalmış toplumların en büyük hastalığı, tutuculuktur.  
 C) Keşke parası çok diye bu işi kabul etmeseydim.  
 D) Bu olaydan sonra kendime öz güvenim geldi.  
 E) Sis, görüşümüzü engellediği için çok ağır ilerleyebiliyorduk.

14. Kızım küçükken sabahları uyanınca beş dakika yatağında otururdu, ben de karşısına oturup onunla küçük bir oyun oynardım. Ben bir hayvan, eşya ya da bitki rolüne girerdim, o kendisi olurdu ve birlikte, drama ya da fabl diyebileceğimiz bir şey sergilerdik. Bir sabah uyandığında battaniyeye sarıldı ve "Hadi bana bir ağaç ol!" dedi. O sabah canım çok sıkıydı. Kızıma "Bu sabah hiç keyfim yok, ağaç olmak istemiyorum!" dedim. Bir an durdu, sonra da "Baba tamam, o zaman üzgün bir ağaç ol." dedi. Ben de çaresiz, üzgün bir ağaç oldum. Birilerinin meyvelerimi taşıdığını, insanların canımı sıktığını anlattım. Anlattıkça hafiflemiş, üzüntülerimi unutmuşum. O anda fark ettim ki sıkıntılarını dile getirilmesi çoğunlukla bizi rahatlatıyormuş.

**Bu parçanın anlatımıyla ilgili olarak aşağıdakilerden hangisi söylenemez?**

- A) Konuşma havası içinde kaleme alınmıştır.  
 B) İkilemeler kullanılmıştır.  
 C) Öyküleyici anlatım tekniği ağır basmaktadır.  
 D) Nitel anlamlı sözcüklere yer verilmiştir.  
 E) Birinci kişili anlatıma başvurulmuştur.

15. I. 1960'ta insanlık tarihi boyunca en çok konuşulan gemiyi aramak ve fotoğrafını çekmek üzere yola koyulan bu fotoğrafçının adı Ara Güler'dir.
- II. Harita Genel Müdürlüğü tarafından yapılan bir çalışma sırasında Ağrı Dağı'nın pek çok fotoğrafı çekilir.
- III. Nuh'un Gemisi'nin izi olarak yorumlanan bu fotoğrafın Hayat Mecmuası'na verilmesi üzerine dergi bir fotoğrafçısını Ağrı Dağı'na gönderir.
- IV. Dünya, Nuh'un Gemisi'nin olduğu söylenen izi, Ara Güler'in uçaktan çektiği fotoğraflardan tanır.
- V. Bu fotoğraflardan birinde gemi biçimindeki bir iz dikkat çeker.

**Yukarıdaki cümleler anlamlı bir bütün oluşturacak biçimde sıralandığında, hangisi baştan ikinci cümle olur?**

- A) I. B) II. C) III. D) IV. E) V.

16. I. 1911 yılının 28 Mart günü Hamburg'da denize indirilen Yavuz zırhlısı "Goeben" adıyla Alman donanmasına katılır.
- II. Böylelikle Osmanlı Devleti; Fransa, Rusya ve İngiltere'nin karşı cephesinde yer alarak I. Dünya Savaşı'na girmiş olur.
- III. 1914'te Çanakkale Limanı'na demir atan bu iki zırhlı 5 milyon Osmanlı altını ödenerek satın alınır.
- IV. 16 Ağustos 1914'te İstanbul'da direklerine Türk sancağı çekilen zırhlılardan Goeben'in adı "Yavuz Sultan Selim", Breslau'nun adı ise "Midilli" olarak değiştirilir.
- V. Adları değiştirilerek Karadeniz'e açılan bu gemiler Rusya'nın Sivastopol ve Odesa limanlarını topa tutar.
- VI. Bu zırhlı, 1912 yılının Kasım ayında "Breslau" zırhlısıyla birlikte Akdeniz'de görevlendirilir.

**Yukarıdaki numaralanmış cümlelerin anlamlı bir bütün oluşturabilmesi için hangilerinin birbiriyle yer değiştirmesi gerekir?**

- A) I. ve II. B) II. ve III. C) II. ve VI.  
D) IV. ve V. E) V. ve VI.

17. (I) Kırmızı renkli, üzerinde lacivert ve grinin çeşitli tonları bulunan kırlangıç, denizlerin en duygusal balıklarından biridir. (II) Bu balık; tıpkı angut ve turnalar gibi, sürekli eşiyile dolaşır. (III) Eşlerden birinin başına bir şey gelse diğeri onu kesinlikle terk etmez. (IV) Bu yüzden, kırlangıç avlamaya çıkan balıkçılar yanlarında mutlaka bir zıpkın ya da kepçeyi hazır bulundurur. (V) Bir oltaya kırlangıç takılırsa tekneye çıkarılana kadar, birlikte dolaştığı eşi de yanında gelir. (VI) Onu da yakalamak çok kolaydır artık balıkçı için.

**Bu parçada numaralanmış cümlelerden hangisi düşüncenin akışını bozmaktadır?**

- A) II. B) III. C) IV. D) V. E) VI.

18. Gençliğimin en dayanılmaz yanı, toplumsal hayatımı sürdürebilmek için maskeler takınmam gerekmesiydi. Kendi başıma kurduğum dünyayı günlük hayatın içinde karşılaştığım insanların arasına çıkaramıyordum. Neredeyse yer altında yaşayan bir adam gibiydim. Ancak edebiyat, ... beni dünya yüzüne çıkardı.

**Bu parçada boş bırakılan yere aşağıdakilerden hangisi getirilmelidir?**

- A) ruhsal dünyamı yazıya aktarma fırsatı vererek  
B) düşlerimi gerçekleştirme olanağı sağlayarak  
C) bana cesaret vererek  
D) gitmem gereken yolu aydınlatarak  
E) elimden sınımsız tutarak

19. (I) Dünyanın en eski haritası, 8200 yıl önce Konya'nın güneyinde yer alan Çatalhöyük'te yapıldı. (II) Çatalhöyük'te bulunan bu harita, 3 metre uzunluğunda ve 90 cm enindedir. (III) Karbon 14 analiziyle MÖ 6200'de yapıldığı kanıtlanan harita, kerpiç bir evin duvarına çizilerek boyanmıştır. (IV) Çok iyi korunmuş olan bu haritada Çatalhöyük'ün kuşbakışı planı ve yakınındaki Hasan Dağı yer alır. (V) Çatalhöyük, MÖ 7500'de Konya'nın Çumra ilçesinin güneyinde kuruldu. (VI) Hiç istilaya uğramamış olan Çatalhöyük'te halk, barışçı ve üretkendi. (VII) Dünyada kentleşmeye geçilen ilk yerleşim yeri olan Çatalhöyük'te yapılan kazılarda en ufak bir savaş izine rastlanmamıştır.

**Bu parça iki paragrafa ayrılmak istense ikinci paragraf numaralanmış cümlelerin hangisiyle başlar?**

- A) II. B) III. C) IV. D) V. E) VI.

20. Antik Çağ ve Roma Dönemi'nde haberleşebilmek için, ahşaptan yapılmış küçük bir tavlaya benzeyen balmumlu yazı tabletleri kullanılırdı, bu tabletler o dönemin tek iletişim aracıydı. Bir kralın, başka bir krala göndermek istediği mesajları kâtipler bu tabletlerin üzerine yazardı. (1) Daha sonra tabletin kanatları kapatılarak tablet mühürlenirdi. (2) Mesajı alan kişi, mührü bozup mesajı okuduktan sonra balmumunun üzerindeki yazıları sıcak bir metal spatulayla silerdi.(3)

- I. Bu işlemlerin tamamlanmasının ardından mühürlü tablet, mesajın iletileceği kral ya da üst düzey yöneticiye gönderilirdi.
- II. Ardından mesaja vereceği cevabı, yüzeyi düzeltilmiş balmumuna yazdırıp tableti karşı tarafa gönderirdi.
- III. Kâtip; kralın mesajını, sivri uçlu metal veya fildişi bir kalemlerle tabletteki balmumunun üzerine kazıyarak yazardı.

**Bu parçanın, anlamlı bir bütün oluşturabilmesi için parçada 1, 2 ve 3 ile belirtilen yerlere I, II ve III numaralı cümleler aşağıdakilerin hangisinde verilen sırayla getirilmelidir?**

- |    |          |          |          |
|----|----------|----------|----------|
|    | <u>1</u> | <u>2</u> | <u>3</u> |
| A) | I        | III      | II       |
| B) | II       | I        | III      |
| C) | II       | III      | I        |
| D) | III      | I        | II       |
| E) | III      | II       | I        |

21. Bahar alerjisi halk arasında saman nezlesi olarak bilinir. En sık genç erişkinlerde görülen bu hastalık, bebeklerde ve ileri yaşlarda daha seyrek görülür. Bu hastalık soya çeker. Anne ya da babadan birinde bahar alerjisi varsa çocuklarda görülme olasılığı %40, her ikisinde de varsa çocuklarda görülme olasılığı %80'dir. Ağaç polenlerinin yol açtığı bu hastalık, cinsiyet farkı gözetmez. Genelde ılımlı seyreden bahar alerjisi, nadir de olsa çok ciddi solunum yetmezliğine yol açabilir. Bu solunum yetmezliği son derece dinamik bir takip ve tedavi gerektirir yoksa bu yetmezlik astım krizlerine dönüşebilir.

**Bu parçada bahar alerjisiyle ilgili olarak**

- I. Sebebi nedir?
- II. Nasıl tedavi edilir?
- III. Genetik midir?
- IV. Tanısı nasıl konur?

**sorularından hangilerinin cevabı vardır?**

- |               |                |                |
|---------------|----------------|----------------|
| A) I. ve II.  | B) I. ve III.  | C) II. ve III. |
| D) II. ve IV. | E) III. ve IV. |                |

22. Mark Twain'in şu sözü, bir öykü ya da romanda her şeyi kendi anlatmaya hevesli, kahramanlarına hiç iş bırakmayan, benbenci yazarların kulağına küpe olur mu dersiniz?: "Yaşlı kadın çığlık atıyordu, deme. Getir onu, bırak çığılığı kendisi atsın." Buradan yola çıkarak, kimi yazarların öykü ve romanlarında yer alan, diyelim bir sokağın kederli görünüşünden, bir insanın hüznünden "Sokağın kederli bir görünüşü vardı." ya da "Hüzünlü bir insandı." şeklinde söz etmek yerine, bir sokağın kederini, bir insanın hüznünü kalem sahiplerinin canlandırabilme güçleriyle okurun kendisi görse çok daha iyi olur bence.

**Düşüncelerini bu sözlerle dile getiren birinin, iyi bir sanatçıdan beklentisi aşağıdakilerden hangisi olabilir?**

- A) Anlatmak istediklerini, okura doğrudan iletmek yerine duyumsatması
- B) Kendini roman kahramanlarının yerine koymaması
- C) Yapıtlarında işlevi olmayan hiçbir ayrıntıya yer vermemesi
- D) Öykü ya da romanlarının kimi bölümlerini okurun yorumuna bırakması
- E) Kahramanlarına yaşattıklarını okura da yaşatmışçasına hissettirmesi

23. Bence, kitap bir sevdadır; insana mutluluk veren bir şeydir. Evime geldiklerinde çok kitabım olduğunu görenler bana hemen şu soruyu soruyorlar: "Bu kitapların hepsini okudunuz mu?" Ben de onlara Oscar Wilde'in, evine gelip de ona aynı soruyu soran kişiye verdiği cevabı veriyorum: "İnsanlar yalnızca okumak için değil, birlikte yaşamak için de kitap alır." Bir sürü kitap alan insan, o kitapların hepsini okuyamayacağını kendisi de çok iyi bilir ama ne olursa olsun kitap alan ve okuyan sayısı artarsa toplumdaki insani ilişkilerde incelikler de artar, insanlar kitap alsın; kendisi okumazsa çocuğu okur, torunu okur. Onlar okumazsa komşunun çocuğu gelir okur, o da okumazsa adam ölünce kitaplar sahalarda satılır, oradan da gider ben alır okurum.

**Bu parçada vurgulanmak istenen aşağıdakilerden hangisidir?**

- A) Kitabın, hangi gerekçeyle olursa olsun günlük yaşamda yer alması gerektiği
- B) Kitabı satın almanın, okumaktan daha büyük zevk verebileceği
- C) Günlük yaşamda kitap okumaya zaman ayırmanın zor olduğu
- D) Kitap okumanın aileden gelen bir alışkanlık olduğu
- E) Kitaplar aracılığıyla güzel dostluklar kurulabileceği

24. Kelebekler Vadisi; Muğla ili, Fethiye ilçesi, Ölüdeniz beldesinde yer alır. Sahip olduğu endemik türler nedeniyle dünya mirası olarak korunması önerilmiş 100 dağdan biri olan Babadağ eteklerinde bulunmaktadır. Bu vadi, 8 Şubat 1995'te I. derece doğal sit alanı ilan edilmiştir. 350 metreye ulaşan sarp kayalık duvarlarla çevrili olan vadi, ismini barındırdığı seksenden fazla kelebek türünden ve özellikle kaplan kelebeğinden alır. Kelebekler Vadisi, 2010'da İngiliz Times gazetesi tarafından dünyanın en güzel 4. doğası seçilmiştir.

**Bu parçada Kelebekler Vadisi ile ilgili olarak aşağıdakilerin hangisine değinilmemiştir?**

- A) Her türlü yapılaşmaya kapalı olduğuna
- B) Adını nereden aldığına
- C) Dünyanın en güzel coğrafyalarından biri olarak kabul edildiğine
- D) Nerede olduğuna
- E) Etrafının dik kayalıklarla çevrili olduğuna

25. Tarih ve mimarisıyla Orta Çağ'a ışık tutan Birgi'de kayıtlı 30 tarihî yapıdan biri olan Çakırağa Konağı, 18. yüzyılın ikinci yarısında deri tüccarı Ali Ağa tarafından yaptırılmıştır. 1975 yılına kadar konut olarak kullanılan bu yapı aynı yıl Kültür Bakanlığınca kamulaştırılmış ve restore edilerek kullanılmaya başlanmıştır. İkinci ve üçüncü katlarında çeşitli bölümleri olan Çakırağa Konağı'nın duvarlarında Osmanlı hat sanatının en mükemmel örnekleri bulunmaktadır. Ayrıca üçüncü katın tavanı son derece zengin bitki ve meyve motifleriyle süslüdür. Konağın ikinci katındaki salonda fresko tarzında yapılmış 18. yüzyıl İzmir manzarası ve salon kapısının dış yüzünün üst tarafında bulunan barok süslemeler izleyenleri hayrete düşürmektedir.

**Bu parçada Çakırağa Konağı ile ilgili olarak aşağıdakilerin hangisine değinilmemiştir?**

- A) Çok katlı olduğuna
- B) Yapıldığı zamana
- C) Kültür Bakanlığı tarafından onarıldığına
- D) Bir katının tavanının pastoral motiflerle bezenildiğine
- E) Çatısının ahşap olduğuna

**26. - 27. soruları aşağıdaki parçaya göre cevaplayınız.**

(I) İyot, tiroit bezinin hormon üretmesi için olmazsa olmaz bir maddedir; bu madde, aynı zamanda beyin, cilt, kas sağlığı ve tükürük bezi için de gereklidir. (II) Deniz mahsullerinde, deniz kenarında yetişen bitkilerde ve bu maddelerle beslenen hayvanların etinde, sütünde ve yumurtasında bol miktarda iyot bulunur. (III) Vücuda yeteri kadar iyot alınmaması, tiroitin yavaş çalışarak büyümesine ve guatr hastalığına yol açar. (IV) İyotun aşırı alınması ise yavaş çalışan tiroit bezini son derece olumsuz bir şekilde etkiler. (V) Fazla iyot tüketiminin vereceği zarar "selenyum" mineralinin alımıyla kısmen giderilebilir.

**26. Bu parçada iyot ile ilgili olarak aşağıdakilerin hangisine değinilmemiştir?**

- A) Nasıl elde edildiğine
- B) Vücuttaki eksikliğinin bir hastalığa yol açtığına
- C) Hangi besinlerde bulunduğu
- D) Fazla tüketilmemesi gerektiğine
- E) Vücut için gerekli olduğuna

**27. Bu parçadaki numaralanmış cümlelerin hangilerinde neden-sonuç anlamı vardır?**

- A) I. ve II.      B) II. ve III.      C) II. ve IV.
- D) III. ve IV.      E) IV. ve V.

**28. - 30. soruları aşağıdaki bilgilere göre cevaplayınız.**

Papatya, nergis, sümbül, karanfil, gül, lale, şebboy, zambak ve ortanca olmak üzere dokuz çeşit çiçek satan bir çiçekçi bu çiçekleri çeşidine göre ayrı ayrı dokuz kaba koyarak vitrinine yerleştirmiştir. Vitrinde üç raf vardır ve her rafa üç saksı sığmaktadır. Çiçekçinin vitrinde yaptığı düzenlemeyle ilgili olarak şunlar bilinmektedir:

- Karanfil ortadaki rafın en soluna, zambağı en üst rafa yerleştirmiştir.
- Papatya, nergis ve sümbül aynı raftadır.
- Lale, şebboy ile aynı raftadır; fakat yan yana değildir.
- Şebboy ve gül dikey olarak aynı hizadadır. Papatya ve zambak ise aynı hizada değildir.



28. Bu bilgilere göre, yeri kesin olarak belirlenemeyen çiçekler aşağıdakilerin hangisinde birlikte verilmiştir?

- A) Zambak, papatya, ortanca  
 B) Şebboy, lale, gül  
 C) Ortanca, gül, nergis  
 D) Lale, nergis, sümbül  
 E) Papatya, nergis, sümbül

29. Aşağıdakilerden hangisi kesinlikle yanlıştır?

- A) Ortanca ve gül yan yanadır.  
 B) Zambak en üst rafın ortasındadır.  
 C) Karanfil, lalenin tam altındadır.  
 D) Papatya, ortancanın tam altındadır.  
 E) Şebboy ile papatya dikey olarak aynı hizadadır.

30. Aşağıdakilerden hangisinin, bulunduğu rafın en sağında yer almadığı kesindir?

- A) Lale  
 B) Şebboy  
 C) Gül  
 D) Sümbül  
 E) Nergis

31.  $\frac{7}{2} : \left(3 - \frac{5}{4} + \frac{7}{3}\right)$

işleminin sonucu kaçtır?

- A) 7 B) 4 C)  $\frac{7}{2}$  D)  $\frac{6}{7}$  E)  $\frac{2}{7}$

32.  $\frac{0,2 + 0,02 + 0,002}{\frac{1}{10} + \frac{1}{100} + \frac{1}{1000}}$

işleminin sonucu kaçtır?

- A) 2 B) 10 C) 20 D) 100 E) 200

33.  $\frac{2^4 + 2^5 + 2^6}{2^3 + 2^{-4} + 2^{-5}}$

işleminin sonucu kaçtır?

- A)  $2^5$  B)  $2^6$  C)  $2^7$  D)  $2^8$  E)  $2^9$

34.  $\frac{(4! + 3!)^2 - (4! - 3!)^2}{4! + 3! + 2!}$

işleminin sonucu kaçtır?

- A) 18 B) 24 C) 36 D) 72 E) 120

35. x bir gerçel sayıdır.

$$\frac{1}{3} < x < \frac{1}{2}$$

olduğuna göre,  $|x - |2x - 3|| - 4$  ifadesinin eşiti aşağıdakilerden hangisidir?

- A)  $3x + 7$  B)  $3x - 1$  C)  $-3x + 1$   
 D)  $-3x - 1$  E)  $-3x + 7$

36.  $\frac{3x^2 - 21x + 36}{3x^2 - 27}$  ifadesinin sadeleştirilmiş biçimi aşağıdaki-lerden hangisidir?

A)  $x + 7$  B)  $\frac{x+4}{x-3}$  C)  $x + 3$   
D)  $\frac{x-3}{x+4}$  E)  $\frac{x-4}{x+3}$

37. Gerçek sayılar kümesi üzerinde  $\star$ ,  $\circ$  işlemleri;

$$a \star b = a^b$$

$$a \circ b = \frac{1}{a} - \frac{1}{b}$$

biçiminde tanımlanıyor.

$a \star (2 \circ 3) = 1$  olduğuna göre,  $a$  kaçtır?

A) 6 B) 4 C) 3 D) 2 E) 1

38.  $a < b < c < d$  olmak üzere  $a, b, c, d$  ardışık çift sayılardır.

$$a = 2x + 6$$

$$b = 3x + 4$$

olduğuna göre  $a + d$  toplamı kaçtır?

A) 18 B) 22 C) 26 D) 30 E) 34

39. •  $a$  ve  $b$ , 7'den küçük ve birbirinden farklı rakamlardır.  
• Dört basamaklı  $2a3b$  sayısının 211 fazlası  $9^a$  tam bölünebilmektedir.

Buna göre,  $a \cdot b$  çarpımı en çok kaçtır?

A) 18 B) 20 C) 24 D) 28 E) 30

40.  $a, b$  ve  $c$  sıfırdan farklı tam sayılar olmak üzere  $a^3 \cdot b \cdot c^5 < 0$  eşitsizliği veriliyor.

Buna göre;

I.  $a > 0$  ve  $b < 0$  ise  $c < 0$  dir.

II.  $a < 0$  ve  $b > 0$  ise  $c > 0$  dir.

III.  $a > 0$  ve  $b > 0$  ise  $c < 0$  dir.

önergelerinden hangileri doğrudur?

A) I ve II B) I ve III C) II ve III  
D) Yalnız I E) Yalnız II

41.  $(1 - \sqrt{3})^2 \cdot (\sqrt{4 + 2\sqrt{3}})$

işleminin sonucu kaçtır?

A)  $2\sqrt{3} - 2$  B)  $\sqrt{2}$  C)  $\sqrt{3}$   
D)  $2\sqrt{3} + 1$  E)  $3\sqrt{2} + 1$

42. Gökçen bölümleri sırasıyla oynanan ve 30 bölümden oluşan bir bilgisayar oyununun her bölümünü, bölümün sıra numarası  $n$  olmak üzere  $n + \frac{n}{5}$  dakikada bitiriyor.

Buna göre, Gökçen bu oyunu toplam kaç dakikada bitirir?

A) 558 B) 465 C) 360 D) 330 E) 311

#### 43 ve 44. Soruları Aşağıdaki Bilgilere Göre Cevaplayınız.

50 kr ve 1 TL'lik madeni paralardan oluşan toplam 40 TL değerindeki 60 adet madeni para dört adet kumbaraya, başlangıçta her birinde eşit sayıda para olacak şekilde dağıtılıyor.

- Birinci kumbaradaki 50 kr lukların sayısı, ikinci kumbaradaki 1 TL liklerin sayısına eşittir.
- Üçüncü kumbaradaki 50 kr lukların sayısı, dördüncü kumbaradaki 1 TL liklerin sayısının üç katıdır.
- Birinci kumbaradaki 50 kr lukların sayısı, dördüncü kumbaradaki 1 TL liklerin sayısından iki eksiktir.
- Üçüncü kumbaradaki 50 kr lukların sayısı ikinci kumbaradaki 1 TL'liklerin sayısının 5 katıdır.

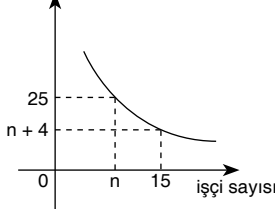
43. Birinci kumbarada toplam kaç TL vardır?

A) 15 B) 14,5 C) 14 D) 13,5 E) 13

44. İkinci ve üçüncü kumbaralarda toplam kaç TL vardır?

A) 19 B) 17,5 C) 16,5 D) 15 E) 14,5

45. bitirme süresi (gün)



Yukarıdaki grafikte eşit kapasiteli işçilerin sayıları ve bu işçilerin belli bir işi bitirme süreleri arasındaki bağıntı verilmiştir.

**Buna göre, n kaçtır?**

- A) 4 B) 6 C) 8 D) 9 E) 10

46. Bir oyun salonundaki jeton fiyatları ve uygulanan promosyonun koşulları aşağıda verilmiştir.

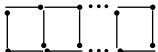
- Bir jetonun fiyatı 3 TL dir.
- Satın alınan her iki jetona promosyon olarak bir jeton ücretsiz verilmektedir.
- Bir kişi toplamda 15 jeton harcadıktan sonra artık promosyondan yararlanamamaktadır.
- Oynanan her oyun için oyun makinasına iki jeton atılmaktadır.

**Buna göre, elinde 40 TL'si olan bir kişi en çok kaç oyun oynayabilir?**

- A) 12 B) 11 C) 10 D) 9 E) 8

47.  $\left| \right| 1 \text{ cm}$ 

Yukarıdaki gibi uzunluğu 1 cm olan kibrit çöpleriyle aşağıdaki şekil oluşturulmuştur.



Yukarıdaki kareleri oluşturmak için toplam 103 adet kibrit çöpü kullanılmıştır.

**Buna göre, oluşturulan şekilde kaç adet küçük kare vardır?**

- A) 33 B) 34 C) 35 D) 36 E) 37

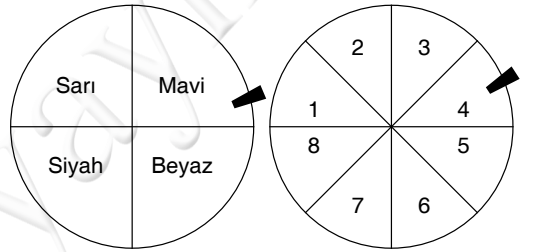
48. Aşağıdaki tabloda sabit hızla hareket eden bir aracın aynı yol üzerinde bulunan A, B, C, D şehirleri arasındaki mesafeleri alma süreleri saat olarak verilmiştir.

	A	B	C	D
A			20	
B				12
C	26			
D			18	

**Buna göre, B şehriden saat 10:00 da yola çıkan araç C şehrine saat kaçta ulaşır?**

- A) 14:00 B) 16:00 C) 18:00  
D) 19:00 E) 21:00

49.



Şekildeki gibi 4 eş bölmeye ayrılmış renk çarkını çeviren bir kişi, beyaz renk gelirse 8 eş bölmeye ayrılmış puan çarkını çevirme hakkı kazanıyor.

**Buna göre, renk çarkını çeviren bir kişinin 6 puan kazanma olasılığı kaçtır?**

- A)  $\frac{1}{4}$  B)  $\frac{1}{8}$  C)  $\frac{1}{24}$  D)  $\frac{1}{32}$  E)  $\frac{1}{64}$

**50. - 52. Soruları Aşağıdaki Bilgilere Göre Cevaplayınız.**

İlker ve Yeşim isimli iki kardeş düz bir yolda ileri ve geri adımlar atarak bir oyun oynamaktadırlar.

- İlker her seferinde 5 adım ileri, 2 adım geri gitmektedir.
- Yeşim her seferinde 4 adım ileri, 1 adım geri gitmektedir.
- İlker'in bir adım uzunluğu 40 cm, Yeşim'in bir adım uzunluğu 30 cm'dir.
- İlker ve Yeşim'in başlangıç noktaları aynıdır.

**50. İlker'in bulunduğu noktadan 30 adım ileri gidebilmesi için en az kaç adım atması gerekir?**

- A) 66 B) 68 C) 70 D) 72 E) 75

51. Yeşim başlangıç noktasından kendi adımları ile 60 adım ilerideki bir A noktasına gidiyor.

**İlker'in başlangıç noktasından A noktasına ulaşabilmesi için en az kaç adım atması gerekir?**

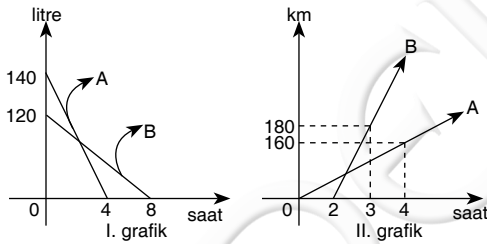
- A) 98 B) 101 C) 103 D) 105 E) 108

52. İlker başlangıç noktasından kendi adımları ile 24 metre ilerideki bir A noktasına gidiyor.

**Yeşim'in, başlangıç noktasından A noktasına ulaşabilmesi için en az kaç adım atması gerekir?**

- A) 120 B) 126 C) 128 D) 130 E) 132

**53. - 55. Soruları Aşağıdaki Bilgilere Göre Cevaplayınız.**



Yukarıdaki I. grafik sabit hızla hareket eden A ve B araçlarının yolda geçen süreye göre depolarında kalan benzin miktarlarını, II. grafik ise aynı araçların yolda geçen süreye göre aldıkları yolları göstermektedir.

53. B aracı 6 saat yol aldığı anda deposundaki benzinin yüzde kaçını kullanmıştır?

- A) 50 B) 60 C) 70 D) 75 E) 80

54. A aracı deposundaki benzinin yarısını harcadığında, kaç km yol almış olur?

- A) 80 B) 90 C) 100 D) 110 E) 120

55. A ve B araçları aynı anda aynı yöne doğru harekete başlamışlardır.

**A aracının deposunda 35 litre ve B aracının deposuna 30 litre benzin kaldığına göre, hızlı olan araç yavaş olan araçtan kaç km önde olur?**

- A) 960 B) 900 C) 840  
D) 800 E) 720

**56. ve 57. Soruları Aşağıdaki Bilgilere Göre ve Birbirinden Bağımsız Olarak Cevaplayınız.**

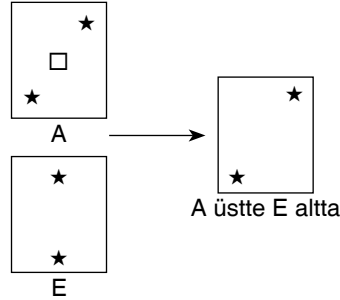
Aşağıdaki A, B, C, D ve E olarak isimlendirilmiş aynı boyutlarda beş oyun kartı verilmiştir. Bu kartların üzerlerine şekildeki gibi yıldızlar çizilmiştir ve bu yıldızların sığabildiği büyüklükte kare parçalar kartlardan kesilmiştir.



L  
İ  
D  
E  
R  
Y  
A  
Y  
I  
N  
L  
A  
R  
I

Bu kartların iki veya daha fazlası (döndürülmeden ve çevrilmeden) üst üste getirilerek çeşitli görünüm-ler elde ediliyor. Bir yıldızın görünebilmesi için ya bu yıldız diğer kartlardaki kare parçalarla örtülecek şekilde üst üste gelmelidir ya da bu yıldızın bulunduğu kart en üstte bulunmalıdır.

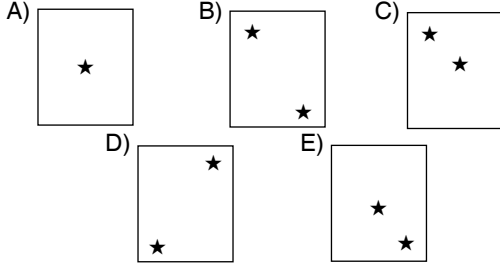
Örnek: A kartı üstte E kartı altta olacak biçimde üst üste getirildiğinde şekilde görünüm elde edilir.



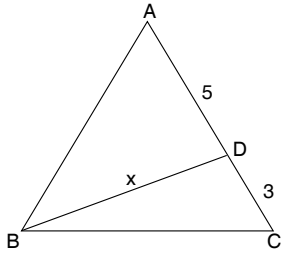
56. Aşağıdaki kart çiftlerinden hangisi belirtilen biçimde üst üste getirildiğinde tek yıldız görünür?

- A) E üstte A altta  
B) A üstte C altta  
C) B üstte C altta  
D) E üstte B altta  
E) C altta E üstte

57. C en altta, B ortada ve D en üstte olacak biçimde üç kart üst üste getirildiğinde aşağıdaki görünümlerden hangisi elde edilir?



58.

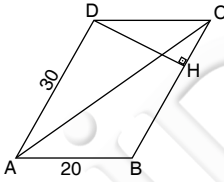


ABC bir eşkenar  
üçgen  
|AD| = 5 birim  
|DC| = 3 birim  
|BD| = x

Yukarıdaki verilere göre, x kaç birimdir?

- A) 7 B)  $7\sqrt{2}$  C)  $7\sqrt{3}$  D)  $7\sqrt{5}$  E) 8

59.



ABCD paralelkenar  
[DH]  $\perp$  [BC]  
3. |CH| = 2. |HB|  
|AD| = 30 cm  
|AB| = 20 cm

Yukarıdaki verilere göre, ADC üçgeninin alan kaç  $\text{cm}^2$  dir?

- A) 180 B) 200 C) 220 D) 240 E) 260

60. Dik koordinat düzleminde

$$d_1: 2x + 6 = 0$$

$$d_2: x + 2y = 5$$

doğrularının kesim noktasının orjine olan uzaklığı kaç birimdir?

- A) 4 B) 5 C) 6 D) 7 E) 8

1. Aşağıdakilerden hangisi ilk Türk devlet topluluklarının siyasal özelliklerinden biri olduğu söylenemez?

- A) "Boy" denilen örgütlenmenin hem toplumsal hem siyasal birim olması
- B) Egemenliğin paylaşılmasına belli bir aile bireylerinin katılması
- C) Tahta geçişin belirli bir hiyerarşik düzen içinde gerçekleşmesi
- D) İktidarı sınırlayan kural ve kurumların mevcut olması
- E) Kurultay'a katılmanın hem hak hem de görev sayılması

2. Türklerin Türk-İslam devletleriyle birlikte aşağıda verilen alanlardan hangisinde değişim yaşadıkları savunulamaz?

- A) Toprak: Toprağın ayrıntılı bir sınıflandırmaya tabi tutulması
- B) Ordu: Çeşitli etnik kökenli olanlardan ücretli asker oluşturulması
- C) Hukuk: Şeri hukuk anlayışının benimsenmesi
- D) Sanat: İnsan figürlerinin azalması, bitki figürlerinin çoğalması
- E) Egemenlik: Ülkenin belli bir hanedana ait olma anlayışının yerleşmesi

3. İnsanlık mirası olarak kabul edilmiş olup Mengücek Beyliği zamanında inşa edilen eser aşağıdakilerden hangisidir?

- A) Divriği Ulu Camii
- B) Alanya Kızıl Kule
- C) Selimiye Camii
- D) Konya Aleaddin Camii
- E) Diyarbakır Surları

4. Aşağıdakilerden hangisi Osmanlıda Divan-ı hümayun üyesi olan Nişancının görevlerinden biri değildir?

- A) Hükümdarın fermanına tuğra çekmek
- B) Toprak ekonomisinin temel kayıtlarını tutmak
- C) Denetiminde çalışacakların beratlarını vermek
- D) Kanunname hazırlamak
- E) Divan kararlarının tutanaklarını hazırlamak

5. Osmanlı vergi düzeninin temel kayıtları aşağıdakilerden hangisidir?

- A) Tahrir
- B) Şeri Sicil
- C) Ruus
- D) Ruznamçe
- E) Ferman

6. Aşağıdakilerden hangisi Osmanlı Beyliği'nin gelişmesini etkileyen gelişmelerden biri olduğu savunulamaz?

- A) Gaza amacıyla hareket edilmesi
- B) Bizans'ın siyasi konumundan yararlanılması
- C) İstanbul'un fethedilmesi
- D) Çeşitli grup ve çevrelerin desteğinin alınması
- E) Beylik çekişmelerinden uzak durulması

## 7. Osmanlı ekonomisinin bozulmasında;

- I. sanayi devrimi
- II. tımar sistemi
- III. ticari antlaşmalar

**gibi gelişmelerden hangilerinin etkili olduğu savunulabilir?**

- A) Yalnız I
- B) Yalnız II
- C) Yalnız III
- D) I ve III
- E) III ve III

## 8. Osmanlı Devletinde nezaretlerin kurulması ve meclis denilen komisyonların devlet işleriyle ilgilenmek üzere yasal kurumlar olarak oluşturulmasına aşağıdakilerden hangisinin döneminde başlanmıştır?

- A) II. Mahmut
- B) III. Selim
- C) Abdülmecid
- D) II. Ahmet
- E) Abdülaziz

9. Osmanlı Devleti Balkan savaşlarında aşağıdakilerden hangisiyle savaşmak zorunda kalmamıştır?

- A) Romanya
- B) Bulgaristan
- C) Yunanistan
- D) Sırbistan
- E) Karadağ

10. Aşağıdakilerden hangisinin Mondros Mütarekesinin etkisini taşıdığı savunulamaz?

- A) Anadolu işgalinin başlaması
- B) Çeşitli amaçları olan cemiyetlerin ortaya çıkması
- C) Osmanlı savunma gücünün zayıflatılması
- D) Rusya'nın Kars-Ardahan ve Batum'dan çekilmesi
- E) Osmanlı'nın dış ilişkilerinin kısıtlanması

11. Amasya Genelgesiyle Amasya Görüşmeleri arasındaki tarih aralığında aşağıdakilerden hangisinin meydana geldiği savunulamaz?

- A) M. Kemal Paşa'nın askerlikten ayrılması
- B) TBMM'nin Doğu Cephesi'ni kurması
- C) Sivas Kongresinin Toplanması
- D) Damat Ferit Hükümetinin istifa ettirilmesi
- E) Ali Galip Olayının yaşanması

## 12. Temsil Heyeti yetkilerini;

- I. Erzurum Kongresi
  - II. Sivas Kongresi
  - III. Anadolu ve Rumeli Müdafai-Hukuk Cemiyeti
- gibi kurul ve kurumların hangilerinden almıştır?**

- A) Yalnız I
- B) Yalnız II
- C) Yalnız III
- D) I ve II
- E) I- II ve III

13. Aşağıdakilerden hangisi Misakımilli belgesinin özelliklerinden biri değildir?

- A) Parlamento kararı olması
- B) Bağımsızlık bildirgesi olması
- C) Halkın iradesini gözetmesi
- D) Mücadelenin hedefinin gösterilmesi
- E) Osmanlı Devletinin sona ermesi gerektiğini ilan etmesi

14. I. TBMM de milletvekilleri;

- I. grup
- II. parti
- III. vilayet

**gibi esaslardan hangilerinin temelinde örgütlenmeye çalıştıkları savunulabilir?**

- A) Yalnız I
- B) Yalnız II
- C) Yalnız III
- D) I ve II
- E) I – II ve III

15. I. TBMM'nin askeri başarıları ona;

- I. anayasal düzene geçme
- II. uluslararası tanıma sorununu aşma
- III. sınır güvenliğine kavuşma

**gibi olanaklardan hangilerini sağladığı savunulabilir?**

- A) Yalnız I
- B) Yalnız II
- C) Yalnız III
- D) I ve III
- E) I – II ve III

16. I. TBMM'nin resmi gazetesi aşağıdakilerden hangisidir?

- A) Ceride-i Resmi
- B) Takvim-i Vekayi
- C) Hakimiyet-i Milliye
- D) İrade-i Milliye
- E) Ceride-i Havadis

17. I. Moskova  
II. Mudanya  
III. Lozan

**gibi antlaşmalardan hangilerinde kapitülasyonların kaldırılması hükme bağlanmıştır?**

- A) Yalnız I
- B) Yalnız II
- C) I ve II
- D) I ve III
- E) I – II ve III

18. Cumhuriyetin Ekim 1923'te ilan edilmesiyle;

- I. hükümet bunalımı
- II. Lozan Antlaşması
- III. İzmir İktisat Kongresi

**gelişmelerden hangileri arasında doğrudan bir ilişkisi olduğu savunulabilir?**

- A) Yalnız I
- B) Yalnız II
- C) Yalnız III
- D) I ve II
- E) I – II ve III

19. Aşağıdakilerden hangisi **siyasal alan** devrimlerinden biri **değildir?**

- A) Saltanatın kaldırılması
- B) Öğretimin birleştirilmesi
- C) Halifeliğin kaldırılması
- D) TBMM'nin kurulması
- E) Kadınlara seçme ve seçilme hakkının verilmesi

20. Aşağıdakilerden hangisinin Terakki Perver Fırkası'nın kurucuları arasında yer aldığı **saunulamaz?**

- A) Kazım Karabekir
- B) Ali Fuat Cebesoy
- C) Rauf Orbay
- D) Adnan Adıvar
- E) Celal Bayar

21. Türkiye'de devletçilik uygulamalarına;

- I. özel sektörün başarısız olması,
  - II. dünya ekonomik bunalımının başlaması,
  - III. tek parti yönetiminden halkın rahatsız olması
- nedenlerinden hangilerinden dolayı geçildiği savunulabilir?**

- A) Yalnız I
- B) I ve II
- C) Yalnız III
- D) II ve III
- E) I – II ve III

L  
İ  
D  
E  
R  
  
Y  
A  
Y  
I  
N  
L  
A  
R  
I



22. I. yabancılara ait yatırımların millileştirilmesi  
II. kadınların siyasal haklar elde etmeleri  
III. etkinliğini kaybetmiş, kurumların kaldırılması  
**gibi gelişmelerin ilke ilişkisi aşağıdakilerden hangisinde verilmiştir?**

	I	II	III
A)	Milliyetçilik	Cumhuriyetçilik	İnkılapçılık
B)	Devletçilik	Halkçılık	Laiklik
C)	Milliyetçilik	Devletçilik	İnkılapçılık
D)	Halkçılık	Milliyetçilik	Cumhuriyetçilik
E)	Laiklik	Halkçılık	İnkılapçılık

23. Aşağıdaki yerlerden hangisinde yaşayan Ortodoks Rumlar mübadele dışında bırakılmıştır?

- A) İzmir  
B) Gökçeada  
C) Konya  
D) Trabzon  
E) Ayvalık

24. Türkiye'nin 1934 ve 1937'de bölgesel paktlara katılmasına aşağıdakilerden hangisinin olumlu bir katkısı olduğu savunulamaz?

- A) İngiltere  
B) Fransa  
C) İtalya  
D) Yunanistan  
E) İran

25. Türkiye II. Dünya Savaşında;  
I. Milli Koruma Kanunu'nu çıkarma  
II. karartma uygulama  
III. ekmeği karneyle dağıtma  
**gibi tedbirlerden hangilerini almak zorunda kalmıştır?**

- A) Yalnız I      B) Yalnız II      C) Yalnız III  
D) I ve II      E) I – II ve III

26. II. Dünya Savaşı başladığında taraflara silah satmayıp, Almanya'nın ilerlemesi üzerine "ödünç verme ve kiralama" yöntemiyle bedeli sonradan almak üzere müttefiklere yardım eden devlet aşağıdakilerden hangisidir?

- A) ABD      B) İsveç      C) İsviçre  
D) İspanya      E) Çin

27. I. Camp David  
II. Dayton  
III. Salt I

**Yukarıdaki antlaşmalardan hangilerinin sıcak savaşlara son verdiği savunulabilir?**

- A) Yalnız I      B) Yalnız II      C) Yalnız III  
D) I ve II      E) I – II ve III

28. Çanakkale, Ankara ve Erzurum kentlerinin yaklaşık aynı enlem üzerinde bulunduğu aşağıdakilerden hangisine bakılarak belirlenemez?

- A) Aynı boydaki cismin öğle vakti gölge boylarına  
B) Yıllık sıcaklık ortalamalarına  
C) Gece-gündüz süre farklarına  
D) Çizgisel dönüş hızlarına  
E) Güneş ışınlarının yere düşme açlarına

29. Bir fiziki haritada renk çeşitliliğinin artması yükselti değişiminin olduğunu gösterir.

**Buna göre aşağıdaki bölümlerin hangisinde fiziki haritalarda kullanılan tüm renkleri görmek mümkündür?**

- A) Ergene  
B) Doğu Karadeniz  
C) Kıyı Ege  
D) Erzurum-Kars  
E) Orta Karadeniz

L  
İ  
D  
E  
R  
  
Y  
A  
Y  
I  
N  
L  
A  
R  
I

30. Akdeniz ve Karadeniz Bölgesi'nde kıyı boyunca uzanan dağların etkileri düşünüldüğünde aşağıdakilerden hangisi ortak değildir?

- A) Ulaşımın geçitleri takip etmesi
- B) Denizel iklimin etki alanının darlığı
- C) Nüfusun kıyı boyunca yoğunlaşması
- D) Güneye bakan yamaçlar da orman örtüsünün zengin olması
- E) Boyuna kıyıların görülmesi

31. GAP (Güneydoğu Anadolu Projesi) kapsamında yapılan barajların yapılış amaçları düşünüldüğünde,

- I. sulama
  - II. balıkçılık
  - III. hidro-elektrik üretimi
  - IV. sel ve taşkınlardan korunma,
- özelliklerinden hangileri daha etkili olmuştur?**
- A) Yalnız I
  - B) I ve II
  - C) I ve III
  - D) I ve IV
  - E) III ve IV

32. Hakkari Yöresi'nin Samsun ve çevresine göre daha fazla yağış almasının temel sebebi aşağıdakilerden hangisidir?

- A) Yer şekilleri
- B) Enlem farkı
- C) Bitki örtüsü
- D) Buzulların bulunması
- E) Nemin yüksek olması

33. Türkiye'de Çukurova Yöresine ait aşağıdaki özelliklerden hangisinde iklimin etkisi yoktur?

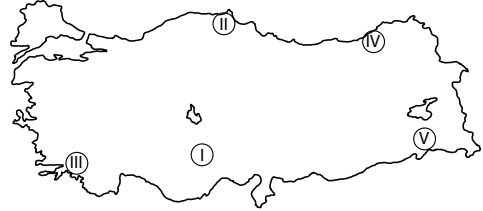
- A) Pamuk tarımının yapılmasında
- B) Doğal bitki örtüsünün maki olmasında
- C) Tarım ürünü çeşidinin fazla olmasında
- D) Tarımda makine kullanımının yaygın olmasında
- E) Akarsuların su seviyelerinin yazın azalmasında

34. Son yıllarda Çukurova, Adapazarı ve Bursa ovalarında hatalı arazi kullanımından kaynaklanan çevre sorunlarında artış görülmektedir.

**Aşağıdakilerden hangisi bu sorunlardan biri değildir?**

- A) Toprağın çoraklaşması
- B) Toprak kirliliğinin artması
- C) Tarım alanlarının yerleşmeye açılması
- D) Tarım alanlarının endüstri tesisleriyle işgal edilmesi
- E) Obrukların oluşması

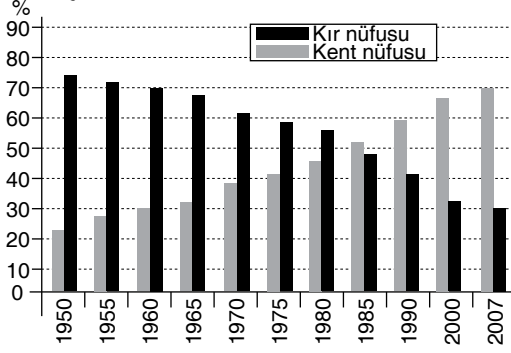
35.



Yukarıdaki Türkiye haritasında numaralarla gösterilen yörelerin hangisinde nüfus yoğunluğu daha fazladır?

- A) I
- B) II
- C) III
- D) IV
- E) V

36. Aşağıda Türkiye'nin 1950-2007 yılları arasında kırsal-kentsel nüfus değişimini gösteren grafik verilmiştir.



**Yalnızca bu grafiğe bakarak;**

- I. Kentsel nüfus artış oranı, kırsal nüfus artış oranından fazladır.
- II. Kırsal nüfus miktarı sürekli azalmıştır.
- III. 1980-1985 yılları arasında kırsal ve kentsel nüfus miktarı eşitlenmiştir.

**yargılarından hangilerine ulaşılabilir?**

- A) Yalnız I
- B) Yalnız II
- C) Yalnız III
- D) I ve II
- E) I ve III

37. Şanlıurfa'nın kuzeydoğunda kırsal kesim meskenlerin yapımında bazalt taşları, güneşinde ise kerpiç malzeme kullanılmaktadır.

Bunda;

- I. Jeolojik yapı
- II. İklim
- III. Yer şekilleri

**etmenlerinden hangilerinin etkisi olmamıştır?**

- A) Yalnız I
- B) Yalnız II
- C) Yalnız III
- D) I ve II
- E) I, II ve III

38. Aşağıdaki tarım ürünlerinden hangi ikisinin aynı bölgede yetişmesi, o bölgede birden fazla iklimin görüldüğüne kanıt gösterilebilir?

- A) Pamuk - Fındık
- B) Buğday - Pamuk
- C) Mısır - Fındık
- D) Çay - Fındık
- E) Pamuk - Zeytin

39. I. Türkiye'de doğal yetiştirme alanlarının sınırlı olması  
II. Hasat döneminde kuraklık istemeleri  
III. Kış sıcaklık ortalamalarının 5°C'nin üzerinde olması  
IV Türkiye'de ihracatının yapılması
- Türkiye'de çay ve muz tarımı ile ilgili olarak verilen yukarıdaki özelliklerden hangileri bu iki ürün için ortaktır?**

- A) I ve II
- B) I ve III
- C) II ve III
- D) I ve IV
- E) II ve IV

40. I. Kümes hayvancılığı  
II. Besicilik ve ahır hayvancılığı  
III. İpekböcekçiliği  
IV. Koyun besiciliği  
V. Arıcılık

**Türkiye'de yaygın olarak yapılan hayvancılık faaliyetlerinden hangileri, artan nüfusun ihtiyacını karşılamak için büyük kentlerin çevresinde yaygınlaşmıştır?**

- A) I ve II
- B) I ve III
- C) I, III ve IV
- D) II ve IV
- E) II, IV ve V

41. I. Sarayköy  
II. Alaçatı  
III. Çatalağzı  
IV. Ambarlı

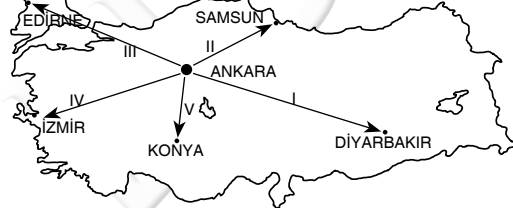
**Yukarıdaki enerji santrallerinden hangilerinin, enerji kaynağının bulunduğu yerde kurulum zorunluluğu bulunmaktadır?**

- A) Yalnız I  
B) Yalnız II  
C) I ve II  
D) II ve III  
E) III ve IV

42. Türkiye’de aşağıdaki endüstri kuruluşlarından hangisinin kuruluş yerinin belirlenmesinde enerji kaynağına yakınlık göz önüne alınmıştır?

- A) Seydişehir’de alüminyum işletmesi  
B) Ereğli’de demir-çelik endüstrisi  
C) Bursa’da otomotiv endüstrisi  
D) Samsun’da bakır endüstrisi  
E) Batman’da petro-kimya endüstrisi

43.



**Yukarıdaki haritada gösterilen Ankara’dan beş farklı kente yapılacak bir karayolu ulaşımında daha fazla doğal engel bulunmaktadır?**

- A) I  
B) II  
C) III  
D) IV  
E) V

44. Türkiye’de sosyal, tarihi, doğal ve kültürel değerler turizm potansiyelinin temel kaynağını oluşturur. Bu kaynağın sürekli ve dengeli bir şekilde yönetilmesi, tahrip edilmemesi kalitesinin artırılması gerekir.

**Buna göre, aşağıdakilerden hangisi turizmin çevreye etkileri arasında yer almaz?**

- A) Trafiğin yoğunlaşmasına bağlı çevre kirliliğinin artması  
B) Tarım topraklarının yapılaşma sonucu zarar görmesi  
C) Mevsimlik nüfus değişiminin yaşanması  
D) Gürültü kirliliğinin artması  
E) Orman yangınlarının artması

45. İç Anadolu Bölgesi’ne ait aşağıda verilen;

- I. erozyon şiddetinin fazla olması  
II. kuraklığın etkili olması,  
III. koyun besiciliğinin yaygın olması  
IV. akarsu ağının seyrek olması

**özelliklerden hangilerinde doğal bitki örtüsünün etkisi olmamıştır?**

- A) I ve II  
B) I ve III  
C) II ve III  
D) I ve IV  
E) II ve IV

46. Kişilerin nasıl davranması gerektiğini düzenleyen ve bir takım davranış kalıplarından oluşan kurallar bütününe ne ad verilir?

- A) Hukuk kuralları  
B) Sübjektif ahlak kuralları  
C) Objektif ahlak kuralları  
D) Görgü kuralları  
E) Din kuralları

47. Aşağıdakilerden hangisi hukukun bağlayıcı kaynakları içerisinde yer almaz?

- A) Anayasa
- B) Tüzük
- C) Örf ve Adet Hukuku
- D) İçtihadı Birleştirme Kararları
- E) Doktrinler

48. Kişinin iyiniyetli olmaması durumunda suç işlenmesi ile ilişkisi olan eşyanın, suç işlenmesinde kullanılan ya da bu amaçla hazırlanan veya suçtan dolayı ortaya çıkan suç ürünü olan eşyanın mahkeme kararı ile Devlet hazinesine mal edilmesine ne ad verilir?

- A) Ceza
- B) Cebri icra
- C) Müsadere
- D) Tazminat
- E) İptal

49. Seçim, siyasi partiler ve çoğulculuk gibi kavramlar aşağıdakilerden hangisinin unsurları arasında yer alır?

- A) Demokratik devlet
- B) Hukuk devleti
- C) Atatürk milliyetçiliğine bağlı devlet
- D) Laik devlet
- E) Sosyal devlet

50. 1982 Anayasası'na göre, anayasaya aykırı olmamak şartıyla yasa yapma yetkisine sahip mercii aşağıdakilerden hangisidir?

- A) Cumhurbaşkanı
- B) Bakanlar Kurulu
- C) Türkiye Büyük Millet Meclisi
- D) Anayasa Mahkemesi
- E) Danıştay

51. Meclisin yasama yılının başladığı ve kendiliğinden toplandığı tarih aşağıdakilerden hangisinde doğru olarak verilmiştir?

- A) 1 Ocak
- B) 1 Temmuz
- C) 1 Eylül
- D) 1 Ekim
- E) 1 Kasım

52. 1982 Anayasası'na göre, Anayasa Mahkemesi kaç üyeden oluşur?

- A) 34
- B) 22
- C) 17
- D) 14
- E) 11

53. I. Tüzük

II. Yönetmelik

III. Kanun hükmünde kararname

**Yukarıdaki yazılı kaynaklardan hangileri Başbakanlık tarafından çıkarılabilir?**

A) Yalnız I

B) Yalnız II

C) Yalnız III

D) I ve III

E) I, II ve III

54. Aşağıdakilerden hangisi idare hukukunun özelliklerinden biri **değildir**?

A) Genç bir hukuk dalıdır.

B) Kamu yararı temel prensibidir.

C) Derlenmiş bir metin hukukudur.

D) Konusunu devlet idaresi oluşturur.

E) Uyuşmazlıklar idari yargıda çözülür.

55. - Uluslararası barış ve güvenliği korumayı amaçlar.

- Savaş sonrası ilişkileri istikrara kavuşturmak ve barışı daha sağlam temeller üzerine oturtmak için kurulmuştur.

- Çocuk gelişimi, çevre koruma, insan hakları, yoksullukla mücadele, ekonomik kalkınma, tarımsal kalkınma, kadın hakları, doğal afet, iş ve işçi hakları konularında da faaliyet göstermektedir.

**Yukarıda kuruluş amaçları verilen uluslararası kuruluş aşağıdakilerden hangisidir?**

A) Birleşmiş Milletler

B) Avrupa Birliği

C) G-8

D) Arap Birliği

E) Ekonomik İşbirliği ve Kalkınma Örgütü

56. 1 Temmuz 2013 itibari ile Hırvatistan'ın üyeliği ile Avrupa Birliği'nin üye sayısı kaç olmuştur?

A) 25

B) 26

C) 27

D) 28

E) 29

57. 'Şu Çılgın Türkler' ve 'Diriliş' kitaplarının yazarı, Çanakkale'den Cumhuriyet yıllarına uzanan çalışmalarıyla bilinen Eylül 2013'de hayatını kaybeden yazarımız aşağıdakilerden hangisidir?

A) Yaşar Kemal

B) Turgut Özakman

C) Mehmet Ali Birand

D) Orhan Pamuk

E) Fazıl Hüsnü Dağlarca

58. Finalde İstanbul'u oylamada geçerek 2020 Yaz Olimpiyat ve Paralimpik Oyunları'na ev sahipliği yapmaya hak kazanan şehir aşağıdakilerden hangisidir?

A) Madrid

B) Roma

C) Tokyo

D) Pekin

E) Valos

59. 2013 yılının Ekim ayında Japonya ile Türkiye arasında hangi şehrimizde nükleer santral yapımı için antlaşma imzalanmıştır?


- A) Mersin
- B) Antalya
- C) Artvin
- D) Sinop
- E) Kütahya

60. Genelkurmay Başkanı Abdülfettah el Sisi komutasındaki Silahlı Kuvvetler ülkede devam eden protestolar sırasında hükümet ve eylemcilere verdiği uzlaşma süresinin dolması üzerine 3 Temmuz 2013 tarihinde aşağıdaki ülkelerden hangisinde yönetime el koymuştur?

- A) Suriye
- B) Mısır
- C) Irak
- D) Lübnan
- E) Suudi Arabistan

L  
İ  
D  
E  
R  
Y  
A  
Y  
I  
N  
L  
A  
R  
I

# KPSS | AÖF | DGS | ALES | SMMM



LİDER  
yayınları

*Eğitimde Lider Yayında Lider...*

[www.lideryayin.com](http://www.lideryayin.com)

Tel: (0232) 435 65 50 - (0232) 347 45 14 • Fax: (0232) 435 65 23  
Tuna Mah. 5501 Sk. No:6 Kat:4 Çamdibi - Bornova / İZMİR



LİDER  
yayınları