



1. Yazar, son yazısında kendi tarzının dışına çıkıp kim-  
senin konuşmaya bile cesaret edemeyeceği konulara  
yönelmiş ve yeni yeni tatlar yaratma yolunu seçmiştir.  
Bu cümlede geçen “yeni yeni tatlar yaratma yolunu  
seçmek” **söz**üyle anlatılmak istenen, **aşağıdakiler-  
den hangisidir?**
- A) Şiirlerinde farklı bir anlatım biçimi denemek  
B) Farklı bir bakış açısı yakalamak  
C) Özgün konulara yönelmek  
D) Üslup yönünden kendini geliştirmeye çalışmak  
E) Değişik okurlara seslenmek

3. **Aşağıdaki dizelerin hangisinde karşıt kavramlar bir  
arada kullanılmamıştır?**

- A) Halktır benim başlıca kaynağım  
Onlarla gülmüşüm, onlarla üzümüşüm.  
B) Sen gideli aradan yıllar geçti  
Bir hazan daha geldi, sen gelmedin.  
C) Hiçbir şey etkilemedi onu  
Senin gidişinin etkilediği kadar  
D) Donduruyor bizi bu sessiz ayrılık  
Oysa ne güzeldi beraberken yanan o aşk ateşi  
E) Dün gibi anımsarım tanıştığımız anı  
Unuttum gitti artık tüm efkârımı



2. Bir yazarımızın şu sözleri bence edebiyatı özetlemek-  
tedir: “Edebiyat; bir roman, öykü veya şiiri meydana  
getirme sırasında sokakla eseri oluşturduğunuz beyni  
bir araya getirmekte gizlidir.”

**Bu parçadaki** “sokakla eseri oluşturduğunuz beyni bir  
araya getirmek” **söz**üyle anlatılmak istenen, **aşağıda-  
kilerden hangisidir?**

- A) Eserin, yazarın hayal gücünü yansıtması  
B) Eserin, seçkin bir zümreye hitap etmesi  
C) Eserin, toplumsal gerçekleri olduğu gibi vermesi  
D) Eserin, gerçeğe düşseli bir potada eritmesi  
E) Eserin, halka uygun bir dille yazılması

4. **Aşağıdaki cümlelerin hangisindeki altı çizili sözcük,  
birlikte verildiği anlama uygun kullanılmamıştır?**

- A) Mağazaya girdiğimizde denediğim ilk ceket üstüme  
tam oturmuştu. (uygun gelmek)  
B) Balık tutmak için gerekli malzemeleri nereden ala-  
cağız? (ele almak, elde bulundurmak)  
C) Bu sabah buraya uğrayacağını umuyoruz. (bir şe-  
yin olmasını beklemek)  
D) Ayakkabının burun kısmı ayağınızı sıktığı için ayak-  
kabıyı almaktan vazgeçti. (dar gelmek)  
E) Bu işte senin biraz daha pişmen gerektiğini düşü-  
nüyorum. (bir işi gereği gibi öğrenmek)

5. Aşağıdaki cümlelerin hangisinde deyim, açıklama-sıyla birlikte verilmiştir?

- A) İstanbul'a yerleştiğimde kendimi denizden çıkmış balık gibi hissediyordum.
- B) Yeni taşınan komşumuz, anneme ağzına geleni söylemişti.
- C) Babam artık burada kalmayalım demeye getiriyor.
- D) Memur, müdüre dert yanıyor, sızlanarak sıkıntılarını anlatıyordu.
- E) Ev sahibimiz kadar dikkatli birini tanımıyorum.

7. (I) Bu dizi 1999-2004 yılları arasında en çok izlenen dizi olma özelliğine sahipti. (II) Televizyonlardaki birçok programda ve gazetelerdeki birçok yazıda bu dizi hakkında çeşitli görüşler ortaya kondu. (III) Televizyon eleştirmenleri bu dizi için pek çok değişik görüş ve öneride bulundu. (IV) Dizin bu başarısının ardından dizinin yönetmeni, senaristi ve oyuncularını bir basın toplantısıyla bu başarının öyküsünü anlattılar. (V) Bu başarının, dizide emeği geçen herkesi daha iyi yerlere getireceği ve bu başarılarının daha uzun süre devam edeceği konusunda ısrarlıyım.

**Bu parçada numaralanmış cümlelerin hangisinde kişisel görüşe yer verilmiştir?**

- A) I. B) II. C) III. D) IV. E) V.

6. (I) Bir edebî tür olarak şiirin ne zaman ortaya çıktığı tam olarak bilinmiyor ama tahmin edilen, ortaya çıkışının çok eski dönemlere dayandığıdır. (II) Bu tahmin doğru olabilir çünkü şiir, insanı etkileyen her duygu adına yazılabildiği için insanın var oluşundan bu yana söylenmiş olabilir. (III) Ayrıca diğer türlere nazaran şiirin, bir duyguyu en iyi yansıtan edebî tür olduğunu söyleyebiliriz. (IV) Lirik, epik, didaktik, pastoral ve dramatik gibi türleri olan şiir, çoğu kişi tarafından en az bir kez yazılmaya çalışılmış bir türdür. (V) İnsanları bunlar içinde en çok etkileyen tür bence lirik şiirdir, yalnız bu etkileyiciliği ortaya koymak daha çok şiiri yazan kişinin işidir diyebiliriz.

**Bu parçada numaralanmış cümlelerle ilgili aşağıdakilerden hangisi yanlıştır?**

- A) I. cümlede, kesin olmayan bir bilgiden bahsedilmiştir.
- B) II. cümlede, bir düşünce gerekçesiyle verilmiştir.
- C) III. cümlede, bir karşılaştırmaya yer verilmiştir.
- D) IV. cümlede, bir genellemeye yer verilmiştir.
- E) V. cümlede, olumsuz bir eleştiriden söz edilmiştir.

8. (I) Bu soruyu sanatta uğraşıyorsanız eminim duymuşsunuzdur: "Sanat, sanat için mi yapılmalı, yoksa toplum için mi?" (II) Bu tartışma, yüzyıllardır vardır ve bana göre sanat oldukça var olacaktır. (III) Sanat, onu yapmanın önceliğine bırakılmalıdır bence. (IV) O, ister toplum için yapar isterse sanat için yapar sanatını. (V) Bundan daha önemli bir sorun var bence, o da sanatın nasıl bir üslupla, dille ele alındığı. (VI) Bu üslubu toplum kabul ederse toplum için sanata, toplum kabul etmeyip anlamazsa sanat için sanata karşılık gelir. (VII) Bir sanatçı, sanatını topluma bir süre sonra kabul ettirirse de kalıcılığı sağlamış olur.

**Bu parçada numaralanmış cümlelerle ilgili olarak aşağıda verilenlerden hangisi yanlıştır?**

- A) I. cümlede, bir ikilemeden söz edilmiştir.
- B) II. cümlede, süregelen bir durum dile getirilmiştir.
- C) III. cümlede, öznel bir düşünce belirtilmiştir.
- D) VI. cümlede, bir koşula yer verilmiştir.
- E) VII. cümlede, bir öneriye yer verilmiştir.

9. Bir yazar, yabancı ülkelerde okunmak ve eserleriyle sesini duyurmak istiyorsa bunun için en kestirme ve en sağlam yol, yazarın eserlerini kendi toprağının özsu-yuyla beslemesinde yatar.

**Bu cümlede anlatılmak istenen aşağıdakilerden hangisidir?**

- A) Bir sanatçının evrenselliğe ulaşması, kendi toplu-munu ve insanını anlatmasıyla gerçekleşir.
- B) İçinde bulunduğu toplumun sesini eserlerine yansı-tan yazar, okur sayısını giderek artırır.
- C) Kendi ülkesinde tanınan ve sevilen bir sanatçı, ev-renselliğe eninde sonunda ulaşır.
- D) Sanatçı kendi sanatını geliştirdiği sürece daha çok sevilir ve tanınır.
- E) Gerçeği tüm yönleriyle dile getiren sanatçılar kalıcı-lığa ulaşmakta en doğru adımı atmış olurlar.

10. (I) Türk göçmen bir ailenin ikinci çocuğu olan Orhan Tan, 1952'de Konya'da doğdu. (II) "Aşk Kulübü" adlı ro-manı 1989'da yayımlandı. (III) Tan, tüm dünyada tanın-dı. (IV) Sürpriz çok satan kitap olarak tanımlanan "Aşk Kulübü", en çok okunanlar listesinde 40 hafta boyunca liste başında kaldı. (V) Orhan Tan'ın "hayatımın eseri" dediği kitabın hikâyesi, annesinin kendi yurtlarından göç etmek zorunda kalmadan önce yaşadığı olaylara dayanıyordu.

**Bu parçada numaralanmış cümlelerden hangisi, söz edilen yazarın romanının içeriğiyle ilgilidir?**

- A) I. B) II. C) III. D) IV. E) V.

11. (I) Yazarımız işlediği konuları genellikle toplum kültü-ründen seçmiştir. (II) Eserleri, öz varlığımızın bir parça-sı gibi görüldüğünden büyük bir beğeni ile okunur. (III) O, milletimizin her kesiminden karakterlere yer vererek önümüze adeta bir renk cümbüşü koymayı amaçlamış-tır. (IV) Onun için insanların dolayısıyla da toplumun sempatik yönlerini anlatır. (V) Ayrıca yazarımızın ken-disi de millî kültürümüzü yaşamaya çalıştığından halk onun samimiyetine inanır.

**Yukarıdaki paragrafta numaralanmış cümlelerin hangisinde neden-sonuç ilişkisi vardır?**

- A) II. ve V. B) I. ve II. C) III. ve IV.  
D) I. ve IV. E) I. ve III.

12. Türkçede "p,ç,t,k" ünsüzleriyle biten bir sözcüğe ünlü ile başlayan bir ek gelirse bu ünsüzler yumuşamaya uğrar.

**Aşağıdakilerin hangisinde yukarıdaki açıklamayı örneklendirebilecek bir kullanım yoktur?**

- A) Bu akşamki davete onunla birlikte gidiyoruz.
- B) Böyle konularda ona yardım eden birisiydim.
- C) Arkadaşımı maça hazırlamak için çok uğraştım.
- D) Hiç kimse bu güzel yurdu terk etmek istemez.
- E) Sınava girenlerin çoğuna bu soru sorulmuş.

13. Aşağıdaki cümlelerin hangisinde bir yazım yanlışı yapılmıştır?

- A) Ellerinde çiçeklerle öğrencilerimiz bizi okulda karşı-lamıştı.
- B) Bu takımda son maçlarında iyi sonuçlar elde ede-memişti.
- C) Karşıkı sınıfta okuyan bir arkadaşımın bugün sine-maya gideceğiz.
- D) Elindeki kitabı kime vereceğini bize de söylemedi doğrusu.
- E) Alt katta oturanlara gidilip de bu söz söylenir mi an-neciğim?

14. Akşamları eve gelip \_\_ bir şeyler yiyordum.

Daha sonra da arkadaşlarla buluşur ve eğlenmeye giderdik. Bu eğlencelerde genellikle şunları yapardık \_\_

kahve içmek,sohbet etmek, sahilde dolaşarak çekirdek yemek \_\_ şarkılar söylemek \_\_

Eve gelince de bu güzel günün üzerine iyi bir uyku çekerdik kendi evlerimizde \_\_

**Bu cümlede altı çizili noktalama işaretlerinin hangi-sinin kullanımı yanlıştır?**

- A) I. B) II. C) III. D) IV. E) V.

15. Aşağıdaki cümlelerin hangisinde altı çizili eylem, yapılışı yönünden diğerlerinden farklıdır?

- A) Bu olaydan sonra bir süre onunla mektuplaştık.
- B) Bu konuda onunla daha önce de birçok kez tartışmıştık.
- C) Yolda epey bir zamandır görmediği arkadaşıyla selamlaşmıştı.
- D) Onunla bundan beş yıl önce bir dershanede tanışmıştık.
- E) Kuşlar yağmurdan sonra ağaçtan uçtu.

16. Aşağıdaki cümlelerin hangisinde niteleme amacıyla kullanılmış bir sözcük yoktur?

- A) Üzüm, kırsal alanlarda bile yetiştirilebilen bir üründür.
- B) Bu pazarda, sadece yiyecek değil, çiçek ve tohum satanlar da vardı.
- C) Bu yörenin doğal güzelliklerini anlatmaya kelimeler yetersiz kalır.
- D) Bu havza, 1974 yılında millî park olarak koruma altına alınmış.
- E) Eleştirmen, özellikle eleştiri yaptığı alanda geniş bilgi sahibi olmalıdır.

17. Aşağıdaki cümlelerin hangisinde bir anlatım bozukluğu vardır?

- A) Elde ettiğin bu başarıyı artık akşama kutlayalım derim Mehmet.
- B) Futbolseverler, bu maçta Arda için olumlu eleştirilerde bulundular ve Arda'yı oldukça beğendiklerini söylediler.
- C) Bu filmin çok izlenmesinin nedeni, Kurtuluş Savaşı yıllarını tüm gerçekliğiyle yansıttasındandır.
- D) Küresel ısınma ve çevre kirliliği son yılların en çok tartışılan konularındandır.
- E) Bir insanın kendine saygı duyması, başkalarına da saygı duymasını sağlar.

18. Bu kitap, eski devirlerde yaşamış toplumların, gelişme açısından ileride ve geride kaldığı alanlarının belirlenmesinde kaynak niteliğindedir.

**Bu cümledeki anlatım bozukluğu aşağıdaki değişiklerin hangisiyle giderilebilir?**

- A) "devirlerde" sözcüğü yerine "dönemlerde" sözcüğü getirilerek
- B) "kaldığı" sözcüğü yerine "olduğu" sözcüğü getirilerek
- C) "belirlenmesinde" sözcüğü yerine "tespit edilmesinde" sözü getirilerek
- D) "kitap" sözcüğüne "-ın" tamlayan eki getirilerek
- E) "niteliğindedir" sözcüğü yerine "olmuştur" sözcüğü getirilerek

19. Köyden kasabaya taşınmıştık. Cadde üstünde, sağ tarafta bahçesi olan, kırmızı boyalı bir ev satın almıştık. Bahçemizin içinden, komşu bahçeden gelen bir su yolu geçiyordu. Bu su, yan duvarın altından diğer bahçelere akıyordu. Bahçemizin bir köşesinde küçük bir tel kümes ve onun yanında çeşitli sebzeler vardı. Cadde tarafında ise bin bir renkte açan çiçeklerimiz vardı.

**Bu parçanın anlatımında aşağıdakilerden hangileri kullanılmıştır?**

- A) Açıklama - öyküleme
- B) Tartışma - betimleme
- C) Açıklama - örnekleme
- D) Betimleme - öyküleme
- E) Karşılaştırma - örnekleme

20. (I) Biçimin içerikten ayrı olarak düşünülmesi olanaksız bir şeydir. (II) Eski edebiyatımızda belli kalıplar biçimi belirlerdi. (III) Yani yalnız biçimde yenilik düşünülemez. (IV) Her yeniliğin biçimle birlikte içerikte de aranması gerekir. (V) İyi sanatçı bu ikisi arasındaki ilişkiyi doğru saptayabildiği kadar iyi sanatçıdır. (VI) Bu ölçütü göz önüne aldığımızda bugün iyi sanatçı diyebileceğimiz çok az insan vardır.

**Yukarıda numaralanmış cümlelerden hangisi düşüncenin akışını bozmaktadır?**

- A) II. B) III C) IV. D) V. E) VI.

21. (I) Edebiyat, duygu ve düşüncelerin söz ya da yazı ile aktarılması işidir. (II) Bu işi doğru ve iyi bir şekilde yapan kişi de edebiyatçı sayılır. (III) Hem edebiyatı hem de edebiyatçıyı etkileyen ve yönlendiren asıl konu ve malzeme de insandır tabii ki. (IV) Edebiyatta en önemli türlerden biri şiirdir. (V) Şiirin bir edebî tür olarak insanı etkileyen bir yönünün olduğu açıktır. (VI) Zaten edebî türler içinde de şiiri ayrı bir yere koymak gerektiğine inanıyorum.

**Bu parça ikiye ayrılmak istenirse numaralanmış cümlelerden hangisinden itibaren ayrılabilir?**

- A) II. B) III. C) IV. D) V. E) VI.

22. (I) 19. yüzyılda gelişim gösteren ve çağdaş bir yazı türü olan roman, bir kişinin yani kahramanın yaşamının uzun bir bölümünü, hatta bazen tamamını belli bir sorun çerçevesinde inceleyip ortaya koyar. (II) Bazen roman son bulur ama işlenen sorun ise bir çözüme, sonuca kavuşmadan kalır. (III) Bundan sonrası adeta okurun zihninde romanın da ötesinde sürer gider. (IV) Acıklı bir son istiyorsa ona uygun bir yol seçer; mutlu son istiyorsa ona göre bir yol belirler. (V) Tüm bunların sonunda da romanı yazan yazarın hiç de tahmin veya hayal etmediği bir şekilde biten bir sürü roman çıkar ortaya.

**Parçada düşüncenin akışına göre, "Öyle ki her okur, kendi dilediğince ve gönlünce tamamlar romanı." cümlesinin numaralanmış cümlelerden hangisinden sonra getirilmesi uygun olur?**

- A) I. B) II. C) III. D) IV. E) V.

23. Günümüz toplumlarının aile yapısı giderek değişmektedir. Günümüzde insan yaşamı, sadece görevini yerine getirmek ve bunda başarı sağlamak olarak görmektedir. Bu da çekirdek ailenin yapısını olumsuz yönde etkilemektedir. Ailedeki ebeveynler, çocuklarına yeteri kadar zaman ayırmıyor ve çocuklarla birlikte oldukları zamanları bile söyleşme, dertleşme yerine televizyon izleme ve internette gezinmeyle değerlendiriyorlar. Bütün bunlar sorunlu aile ve sorunlu insan tipini ortaya çıkarıyor.

**Bu parçada aşağıdakilerden hangisinden yakınılmaktadır?**

- A) Çoğu insanın yaşamda elde ettiği başarılarından mutlu olmasından  
B) Kişinin öncelikle kendini bilmesi ve yaşamını buna uygun hale getirmemesinden  
C) İnsanlar arası ilişkilerin zayıflamasının, insanların birbirinden uzaklaşmasına ve mutsuzluğa neden olmasından  
D) Mutsuz olan insanların başka insanların da mutsuz olmasına yol açmasından  
E) İletişim alanındaki gelişmelerin insanların arasındaki birlikteliği olumsuz etkilemesinden

24. Edebî bir tür olarak şiir, yalnızca kendi sınırları içinde varlık gösteren bir tür değildir. Şiirden hemen hemen her tür etkilenmiş ve bir şekilde yararlanma yoluna gitmiştir. Fakat bunun tam tersi olmamıştır, yani şiir öteki türlerden etkilenmemiştir. Mesela "şiir gibi öykü" ifadesinde öykü yüceltilirken "öykü gibi şiir" ifadesinde şiir hafife alınmıştır. Bu tip örnekleri günlük yaşamda da görürüz. Mesela bir futbol takımı için "şiir gibi oynuyorlar" veya romantik bir akşam için "şiir gibi akşam" ifadelerinin her biri, şiire ve şiirselliğe ne kadar önem verildiğinin bir göstergesidir. Özetle şiir ne ile iş birliği yaparsa veya ne ile birlikte kullanılırsa onu değerli kılmayı başarmıştır.

**Bu parçada şiirle ilgili olarak aşağıdakilerden hangisi vurgulanmak istenmiştir?**

- A) Günlük yaşamda veya her yazınsal yaratıda şiirden izler görmek mümkündür.  
B) Şiir yazmak zaman zaman insanları başka dünyalara alıp götürür.  
C) Şiir herkesçe sevilerek okunan bir tür olmayı başarmıştır.  
D) Şiir insanların duygularını besleyip geliştirmiştir.  
E) Şiir bazen günlük yaşamı da yansıtmaktadır.

25. Bir romancı değildir Murat Demir. Sadece başından geçenleri anlatmakla yetinir. Belki biraz düzenler onları o kadar. Bunun için de anlattıklarının hepsinin doğruluğuna inanıyorsunuz. Ama bu erdemi onun gerçekten bir sanat eseri yaratmasına da engel oluyor. Gerçi bizi anlattıklarının doğruluğuna inandırıyor, fakat hayali olmadığı için anlattıkları kişilerin içlerine giremiyor. Bir yazarda hayalin bulunması işte bunun için gereklidir, çünkü biz başkalarını ancak hayalimizle anlayabiliriz.

**Yukarıdaki parçaya göre yazarın anlattıkları kişilerin içlerine girememesinin nedeni aşağıdakilerden hangisidir?**

- A) Anlatıcının bir romancı olamaması
- B) Anlatıcının gerçekten bir sanat eseri oluşturmaması
- C) Anlattıklarının hepsinin doğru olduğuna inandırması
- D) Anlattıkları olaylarda hayal gücüne yer vermemesi
- E) Sadece hikâyelerinde çevresinden bahsetmesi

26. Dergilere gönderdiği yazıları "Ama siz tanınmıyorsunuz!" diye geri çevrilen bir genç yazarımız, "Öyleyse ben de tanırım. Ödül mü istiyorsunuz? Onu da alırım." demiş. Merak ediyorum, bu genç, yüzyılımızın en önemli romanlarından birinin tam on bir yılda ve dört kez yazıldığını biliyor mu acaba? Ya da bir Türk romanının ödül almasına karşın, daha ikinci baskısı yapılmadan bir kitap pazarcısına kiloyla satıldığından haberi var mı?

**Bu parçada aşağıdakilerden hangisi vurgulanmaktadır?**

- A) Yazarlar arasında, tanınmış tanınmamış ayrımı yapılmamalıdır.
- B) Genç yazarların yapıtlarını yayımlamak gerekir.
- C) Bir yazarın değeri ilk ürünleriyle anlaşılır.
- D) Bir yapıtın ödül alması, onun değerini göstermez.
- E) Dünya edebiyatı sürekli bir değişim içindedir.

27. Onun tiyatrolarındaki kahramanlar; içtiklerini, düşündüklerini ve duygularını saklama gereği duymazlar. Bir olayı genellemeden kaçınırlar; süslü, sanatlı, anlaşılması zor sözler kullanmazlar. Hayal ettiklerini uygulamak amacıyla gayret göstermezler, bir ileti vermek için uğraşmazlar.

**Bu parçadan, söz konusu tiyatro eserlerinin kahramanlarıyla ilgili olarak aşağıdakilerden hangisine ulaşılamaz?**

- A) Hayallerinin arkasından koşmaz.
- B) Sahnede söyledikleri rahatça anlaşılabilir.
- C) Bir mesaj vermek için çaba sarf etmez.
- D) Düşündüklerini yalnız bir dille anlatır.
- E) Mesaj verme kaygısı güderler.

28. Fazıl Hüsni Dağlarca'nın yazdığı şiirlerin ve destanların kaynağında halk söylenceleri ve halk efsaneleri vardır. Fakat bu ürünlerin asıl kaynağı, yazarın çevresinden edindiği izlenimlerdir. Buna ayrıca, gözlem, imge, anlatım gücünü, duygu ve düşünce yoğunluğunu ilave edebiliriz. Dağlarca'nın bir defa okuyunca bile bir daha unutamadığımız, daha ilginç, hayatın farklı olay ve olguları karşısında aniden anımsayabileceğimiz tüm eserleri bu yargıyı tamamiyle doğrular niteliktedir.

**Aşağıdakilerden hangisi bu parçada sözü edilen sanatçının bir özelliği değildir?**

- A) Okurlarının belleğinde kalıcı izler bırakma
- B) Duygularını ve düşündüklerini yazıya dönüştürme gücüne sahip olma
- C) Okurlarına, onların hayatına yön verecek öğütlerde bulunma
- D) Etrafını detaylarıyla değerlendirerek anlatma
- E) Yerel motiflerden ve söyleyişlerden yararlanma

29. Burası yüksek tepelerle çevrili ve girişte dev gibi kalyaların ve çam ağaçlarının olduğu çok güzel bir koy. Güneyinde, genellikle yazlık turlarda kullanılan gezi teknelerinin yaşadığı bir marina bulunuyor. Bu tekneler oldukça lüks olan ve bin bir rengeyle çiçek bahçesini andıran teknelerdir. Yalnız bu teknelerin doğaya bazen zararının da olduğunu söylemeliyim. Bence bu zararın engellenmesi için bu teknelerin yerine hafif olan ve doğaya zarar vermeyen malzemeden yapılmış başka tekne türleri kullanılmalıdır.

**Bu parçayla ilgili olarak aşağıdakilerden hangisi söylenemez?**

- A) Karşıt durumlar bir arada verilmiştir.
- B) Birden çok duyuya yer verilmiştir.
- C) Söyleyenin görüşlerini içeren cümleler kullanılmıştır.
- D) Benzetmelere yer verilmiştir.
- E) Niteleme amacıyla kullanılmış sözcükler vardır.

30. Bir roman yazarının eserlerine kaynaklık eden bilimlerden biri de tarihtir. Mesela romancı eserini oluştururken onu besleyecek olayları tarihten edinebilir. Ama bu romanı oluştururken tarihten yararlı olsa bile o esere bir tarih kitabı gibi bakamayız. Tarihte her şey olduğu gibi anlatılır. Her olay nesnel bir biçimde verilir. Dil, genellikle sıradan, basit ve sıkıcı bir dildir. Tarih kitabı bu dili sadece bilgilendirmek amacıyla kullanır. Oysa romanda, öyküde veya bir tiyatrodaki bir gerçekten bahsedilmesine rağmen yazar, o esere kendini katarak gerçeği dile getirir. Bazen abartır, bazen yerer, bazen duyarsız kalır, bazen duygulandırır. Olayları kendi penceresinden anlatırken tabii ki dili de bilgi için değil okura bir anlatım zevki tattırmak için kullanır. Kendince dile de bir şekil verir yazar.

**Bu parçadan aşağıdakilerden hangisi çıkarılamaz?**

- A) Bir romancıyı tarihçiden farklı kılan, romancının anlatım biçimidir, tarzıdır.
- B) Bir roman yazarken tarihten faydalanmak olayları olduğu gibi, aynen vermeyi gerektirir.
- C) Bir tarih kitabıyla bir roman ancak içerik bakımından birbirine benzeyebilir.
- D) Romancı kendine özgü bir anlatım tarzıyla okura farklı şeyler hissettirmek ister.
- E) Bir tarih kitabının dili, bir romana göre genellikle daha sade ve düzdür.

$$31. \left(1 + \frac{1}{2}\right) \cdot \left(1 + \frac{1}{3}\right) \cdot \left(1 - \frac{1}{4}\right)$$

**işleminin sonucu kaçtır?**

- A) -1
- B) 0
- C)  $\frac{1}{2}$
- D) 1
- E)  $\frac{3}{2}$

$$32. \frac{\frac{1}{0,02} + \frac{1}{0,4}}{\frac{1}{0,8} + \frac{1}{0,04}}$$

**ifadesinin değeri aşağıdakilerden hangisidir?**

- A) 1
- B) 2
- C) 4
- D) 10
- E) 12

$$33. \frac{3^5 - 5^3}{4^3 - 3^4} \text{ işleminin sonucu kaçtır?}$$

- A)  $\frac{-118}{17}$
- B)  $\frac{-64}{17}$
- C) 2
- D)  $\frac{64}{17}$
- E)  $\frac{118}{67}$

34. I.  $\sqrt{(-9)^2} - \sqrt[3]{-125} = 14$

II.  $\sqrt{54} + \sqrt{36} = 10$

III.  $\sqrt{5} \cdot \sqrt[3]{20} = 10$

IV.  $\sqrt{3} \cdot \sqrt[3]{3} = \sqrt[6]{243}$

Yukarıdaki ifadelerden kaç tanesi doğrudur?

- A) 0 B) 1 C) 2 D) 3 E) 4

35. a, b, c negatif tam sayılardır.

a . b = 16 ve b.c = 64 olarak veriliyor.

Buna göre a + b + c toplamının en büyük değeri kaçtır?

- A) -81 B) -42 C) -26  
D) -21 E) -18

37. 
$$\begin{array}{ccc} a & b & c \\ -\frac{8}{b} & -\frac{5}{c} & -\frac{2}{d} \end{array}$$

Yukarıdaki çıkarma işlemlerine göre a – d ifadesinin sonucu kaçtır?

- A) 12 B) 13 C) 14 D) 15 E) 16

38. x ve y pozitif doğal sayılar,

$$360 \cdot x = y^3$$

olduğuna göre x + y en az kaçtır?

- A) 85 B) 90 C) 100 D) 105 E) 121

36. a, b, c pozitif gerçel sayılardır.

$$a \cdot b = \frac{4}{5}$$

$$b \cdot c = \frac{5}{6}$$

$$a \cdot c = \frac{6}{7}$$

olduğuna göre aşağıdakilerden hangisi doğrudur?

- A)  $c > b > a$  B)  $c > a > b$   
C)  $a > b > c$  D)  $b > a > c$   
E)  $a > c > b$

39. (abc) üç basamaklı, (bc) iki basamaklı doğal sayılardır.

(abc) = 21.(bc) eşitliğini sağlayan (abc) üç basamaklı sayısının en büyük değeri kaçtır?

- A) 905 B) 925 C) 945 D) 975 E) 995



40.  $x - y = 3$  ve  $y - z = 2$

olduğuna göre  $xy + yz - xz - y^2$  ifadesinin eşiti nedir?

- A) -6 B) -3 C) -1 D) 3 E) 6

41.  $x$  ve  $y$  tam sayı olmak üzere

$$3 < x \leq 8$$

$$-6 \leq y \leq 4$$

olduğuna göre  $4x - 3y$  ifadesinin en büyük değeri kaçtır?

- A) 32 B) 34 C) 48 D) 50 E) 52

42.  $3a + 3b = 5$

$$2a + 2c = -6$$

$$2b - 3c = -4$$

ise  $a + b + c$  toplamı kaçtır?

- A) 10 B) 15 C) 18 D) 21 E) 24

43.  $\left( \frac{1}{1-a} - \frac{1}{a+1} \right) \cdot \frac{1-a^2}{2}$

ifadesinin en sade şekli nedir?

- A)  $a$  B)  $a + 1$  C)  $a^2 - a$   
D)  $a^2 - 1$  E)  $a - 1$

44. Bir manav aldığı limonların tanesini 150 kuruşa satınca 20 lira zarar, tanesini 230 kuruşa satınca 28 lira kâr elde eder.

Buna göre manav kaç limon almıştır?

- A) 12 B) 24 C) 36 D) 48 E) 60

45. Bir araç A kentinden B kentine 64 km/sa hızla gidip 48 km/sa hızla geri dönüyor.

Gidiş-dönüş toplam 14 saat sürdüğüne göre A ile B kentleri arası kaç km'dir?

- A) 320 B) 360 C) 372  
D) 384 E) 400

46. Serdar bir işin  $\frac{3}{4}$ 'ünü 9 günde, Okyar aynı işin  $\frac{2}{3}$ 'ünü 4 günde yapabilmektedir.

**Buna göre ikisi birlikte bu işin tamamını kaç günde yaparlar?**

- A) 2 B) 3 C) 4 D) 6 E) 8

49. Kaan, Batu ve Defne bir miktar kalemı sırası ile  $\frac{1}{2}$ ,  $\frac{1}{4}$  ve  $\frac{1}{5}$  sayıları ile ters orantılı olarak paylaşıyorlar.

**Defne Batu'dan 4 kalem fazla aldığına göre, Kaan kaç kalem almıştır?**

- A) 4 B) 6 C) 8 D) 10 E) 12

47. Etiket fiyatı üzerinden %40 indirimle satılan bir mal, bu fiyata %30'luk ikinci bir indirim daha uygulanarak 336 ₺'ye satılıyor.

**Bu malın etiket fiyatı kaç ₺'dir?**

- A) 600 B) 720 C) 800 D) 850 E) 900

50. Bir babanın yaşı iki çocuğunun yaşları toplamından 29 büyüktür.

**5 yıl sonra babanın yaşı çocuklarının yaşları toplamının 2 katı olacağına göre babanın bugünkü yaşı kaçtır?**

- A) 38 B) 39 C) 43 D) 47 E) 53

48. Şeker yüzdesi %30 olan 200 gram şekerli su ile şeker yüzdesi %60 olan 300 gram şekerli su karıştırılırsa yeni karışımın şeker yüzdesi kaçtır?

- A) 24 B) 36 C) 48 D) 52 E) 64

51. Bir grup işçi, bir işi 12 günde bitiriyor.

**İşçi sayısı %20 azaltılır, günlük çalışma süresi %50 arttırılırsa aynı iş kaç günde biter?**

- A) 6 B) 8 C) 10 D) 12 E) 16

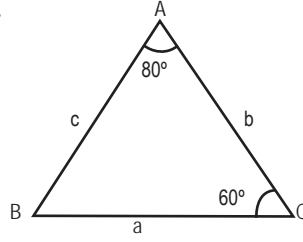
52. Reel sayılarda tanımlı  $\Delta$  işlemi

$$3^a \Delta 2^b = \frac{a \cdot b}{a - b} \text{ şeklinde tanımlanıyor.}$$

Buna göre  $81 \Delta \frac{1}{64}$  işleminin sonucu kaçtır?

- A) -2,4 B) -2 C) -1 D) 2 E) 4,2

54.



ABC üçgeninde verilenlere göre

$$|a - b| + |b - c| + |a - c|$$

ifadesinin eşiti aşağıdakilerden hangisidir?

- A) a B) a - b C) 2(b - a)  
D) 2(a - b) E) b - c

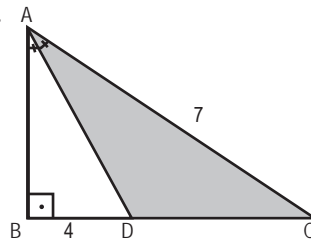


53. 15 soruluk bir sınavda her sorunun beş seçeneği vardır.

Ardı ardına iki sorunun yanıtı aynı seçenek olmayacağına göre, kaç farklı cevap anahtarı oluşturulabilir?

- A)  $2^{15}$  B)  $5 \cdot 2^{28}$  C)  $3 \cdot 2^{29}$   
D)  $7 \cdot 2^{28}$  E)  $30^5$

55.



$$[AB] \perp [BC]$$

$$[AD] \text{ açıortay}$$

$$|BD| = 4 \text{ cm}$$

$$|AC| = 7 \text{ cm}$$

ABC üçgeninde verilenlere göre, A(ADC) kaç  $\text{cm}^2$ 'dir?

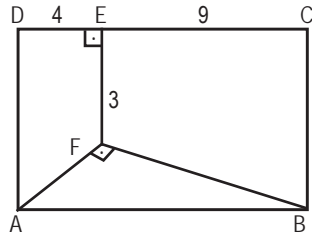
- A) 12 B) 14 C) 16 D) 18 E) 20

56. – 58.SORULARI AŞAĞIDAKİ BİLGİLERE GÖRE CEVAPLAYINIZ.

Aşağıdaki tabloda bir Halk Eğitim Merkezinde 2008, 2009 ve 2010 yıllarında çeşitli kurslara katılan kişi sayıları gösterilmiştir.

		YILLAR		
		2008	2009	2010
KURS	Resim	40	30	35
	Giyim - dikim	65	40	30
	Bilgisayar	95	60	60
	Tel kırma	36	20	25
	Takı tasarımı	72	35	60

59.



ABCD dikdörtgen

$[EF] \perp [DC]$

$[AF] \perp [FB]$

$|DE| = 4$  cm

$|EC| = 9$  cm

$|EF| = 3$  cm

56. Tel kırma kursuna 2010 yılında katılan kişi sayısı 2009 yılına göre yüzde kaç artmıştır?

A) 20 B) 25 C) 30 D) 35 E) 40

Verilenlere göre, A(ABCD) kaç  $\text{cm}^2$ 'dir?

A) 117 B) 90 C) 78 D) 72 E) 66

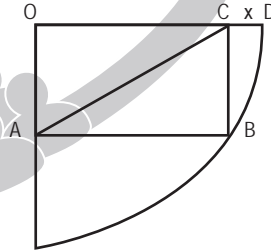
57. 2010 yılında kurslara katılan kişi sayıları bir daire grafiğe taşınırsa, resim kursuna katılanlara ait daire diliminin merkez açısı kaç derecedir?

A) 60 B) 50 C) 40 D) 30 E) 20

58. Üç yıl boyunca bu kurslara katılan toplam kişi sayıları küçükten büyüğe doğru sıralanırsa, üçüncü sırada olan kurs hangisidir?

A) Giyim – dikim B) Tel kırma  
C) Takı tasarımı D) Resim  
E) Bilgisayar

60.



Şekildeki O merkezli çeyrek çemberde, OABC dikdörtgen

$|OA| = 6$

$|AC| = 10$

olduğuna göre,  $|CD| = x$  kaç br'dir?

A) 6 B) 5 C) 4 D) 3 E) 2

GENEL YETENEK TESTİ BİTTİ.  
GENEL KÜLTÜR TESTİNE GEÇİNİZ.



1. Orta Asya'da kurulan Türk devletlerinin İpek Yolu üzerinde belli bir süre egemenlik kurmaları bu devletlere,

- I. ekonomik açıdan güçlenme,
- II. bölge siyasetinde etkili olma,
- III. tarımsal etkinliklere ticaretten daha fazla önem verme

durumlarından hangilerini kazandırmıştır?

- A) Yalnız I      B) Yalnız II      C) Yalnız III  
D) I ve II      E) II ve III

3. • Zengin devlet adamlarının mal ve mülklerini toplum yararına bağışlaması  
• Üretim - tüketim ilişkilerinin düzenlenmesi  
• Meliklerin devlet yönetimine önceden hazırlanması  
• Toprakların devlete hizmet edenlere asker yetiştirme karşılığı verilmesi

Yukarıdaki özelliklerle aşağıdakiler arasında eşleştirme yapıldığında hangisi dışarda kalır?

- A) Vakıf      B) Ahi - lonca  
C) Atabey      D) İktâ  
E) Gulam

4. Anadolu'da kurulan ilk Türk beyliklerine ait mimari yapıların eşleştirilmesi hangisinde doğru olarak verilmiştir?

- A) Danişmentliler - Divriği Ulu Camii  
B) Mengüceker - Yağlıbasan Medresesi  
C) Artuklular - Hüsamiye Medresesi  
D) Saltuklular - Kayseri Ulu Camii  
E) Mengüceker - Malabadi Köprüsü

2. I. Göktürk  
II. Kutluk  
III. Uygur

devletlerinin ortak özelliği aşağıdakilerden hangisidir?

- A) Ülkeyi hanedan üyelerinin ortak malı kabul etmeleri  
B) Avrupa'ya göç etmeleri  
C) Hareketli harf sistemine dayalı matbaayı bulmaları  
D) Bağımsızlık savaşı yaparak kurulmaları  
E) Çin Seddi'nin yapılmasına neden olmaları

5. Astronomi alanında yaptığı çalışmalar ve Takvim-i Celali'nin hazırlanmasıyla adından söz ettiren Selçuklu Dönemi bilim adamı aşağıdakilerden hangisidir?

- A) Biruni  
B) Harezmi  
C) Farabi  
D) İbn-i Sina  
E) Ömer Hayyam

6. Osmanlı Devleti'nde yönetenler grubunda yer alanların hangisinde devşirme - kul kökenlilerin bulunduğu söylenemez?

- A) Seyfiye B) İlimiye C) Kalemîye  
D) Ehli örf E) Sadrazam

7. Osmanlı Devleti'nde kapitülasyonlardan yararlanan devletlerin vatandaşları arasındaki davalara aşağıdakilerden hangisi bakardı?

- A) Cemaat Mahkemeleri  
B) Nizamiye Mahkemeleri  
C) Şer'i Mahkemeler  
D) Konsolosluk Mahkemeleri  
E) Divan-ı Hümayun

8. Osmanlı Devleti'nde savaşlarda ele geçen Hıristiyan unsurların devletin payına düşenlerine verilen ad, aşağıdakilerden hangisidir?

- A) Devşirme B) Pençik C) İskan  
D) İkta E) Vakıf

9. Osmanlı Devleti'nde; II. Osman ve III. Selim yenilik yapmaya çalıştıkları için, Abdülaziz ve II. Abdülhamit ise yapılmak istenen yeniliklere karşı çıktıkları için tahttan indirilmişlerdir.

**Buna göre,**

- I. Yenilik yanlıları zamanla güçlenmiştir.  
II. Bazı padişahlar yenilikleri benimsememiştir.  
III. Padişah yetkileri artmıştır.

**yargılarından hangilerine ulaşılabilir?**

- A) Yalnız I B) Yalnız II C) I ve II  
D) II ve III E) I, II ve III

10. Mürur Tezkeresi adıyla İstanbul'a Anadolu'dan gelecek olanlar için dahili pasaport uygulaması getiren Osmanlı padişahı aşağıdakilerden hangisidir?

- A) III. Selim B) II. Mahmut  
C) Abdülmecit D) Abdülaziz  
E) II. Abdülhamit

11. Sanayi Devrimi'nden sonra Avrupa mallarının Osmanlı pazarlarını istila etmesi karşısında Osmanlı Devleti bazı önlemler almak istemiştir.

**Aşağıdakilerden hangisi, bu önlemlere örnek gösterilemez?**

- A) Hereke Dokuma Fabrikası'nın açılması  
B) İslah-ı Sanayi Komisyonu'nun kurulması  
C) Balta Limanı Ticaret Antlaşması'nın imzalanması  
D) Feshane'nin kurulması  
E) Yerli tüccar ve esnafa vergi ve gümrük kolaylıkları sağlanması

12. Mustafa Kemal Paşa; Çanakkale Cephesi'nde bütün kuvvetlerin kendi komutasına verilmesini, Sakarya Savaşı öncesinde de TBMM'nin ordu - savaş ile ilgili yetkilerini Başkomutanlıkla birlikte istemiştir.

**Bu durum Mustafa Kemal'in;**

- I. kendine olan güven,
- II. sorumluluk almaktan kaçınmama,
- III. yurtsever ve milliyetçi olma

**gibi kişisel özelliklerinden hangilerinin kanıtıdır?**

- A) Yalnız I      B) Yalnız II      C) Yalnız III  
D) I ve II      E) I, II ve III

13. Osmanlı Devleti'nin I. Dünya Savaşı'na Üçlü Bağlaşma (İttifak) Devletleri yanında girmesinde,

- I. kaybettiği yerleri geri alma düşüncesi,
- II. Rusya'yı yenilgiye uğratarak Turan politikasını gerçekleştirme anlayışı,
- III. Boğazlar ve Orta Doğu'yu koruma düşüncesi

**durumlarından hangileri etkili olmuştur?**

- A) Yalnız I      B) Yalnız II      C) Yalnız III  
D) II ve III      E) I, II ve III

14. Millî Mücadele'nin ilk yayın organı özelliği gösteren ve Sivas'ta yayın hayatına başlayan gazete, aşağıdakilerden hangisidir?

- A) Hâkimiyetilliyе gazetesi  
B) İradeimilliyе gazetesi  
C) Tasvir-i Efkar gazetesi  
D) Peyamısbah gazetesi  
E) Hukuk-u Beşer gazetesi

15. Mustafa Kemal'in Son Osmanlı Mebuslar Meclisine başkan olmak istemesinin amacı aşağıdakilerden hangisidir?

- A) Padişahın yetkilerini artırmak  
B) Kuvvetler birliği ilkesini hayata geçirmek  
C) Meclis dağıtılsa meclisi yeniden Anadolu'da toplayabilmek  
D) Hükûmete destek olmak  
E) Anlaşma Devletleriyle iş birliği yapmak

16. Sevr Antlaşması'nda; "Kapitülasyonlar ekonomik, mali ve adli alanlarda yeniden düzenlenecektir. İtilaf Devletlerince oluşturulacak bir mali komisyon Osmanlı Devleti'nin gelir ve giderlerini denetleyecektir." maddeleri yer almıştır.

**Buna göre,**

- I. Devletin egemenlik hakları çöğnenmiştir.
- II. Bağımsızlık etkisiz kılınmıştır.
- III. Mali denetim devam edecektir.

**yargılarından hangilerine ulaşılabilir?**

- A) Yalnız I      B) Yalnız II      C) Yalnız III  
D) I ve II      E) I, II ve III

17. Kurtuluş Savaşı yıllarında TBMM ilk komutan atamasını aşağıdaki cephelerden hangisine yapmıştır?

- A) Doğu Cephesi  
B) Güney Cephesi  
C) Batı Cephesi  
D) İç Cephe  
E) Trakya Cephesi

**18. Kurtuluş Savaşı yıllarında Sovyet Rusya ile TBMM arasında yakın ilişkiler kurulmasında,**

- I. Her iki tarafın emperyalizme karşı olması,
- II. TBMM'nin Batı'dan yardım alma olanağının olmaması,
- III. Sovyet Rusya'nın İngiltere'nin kendisini Boğazlar ve Kafkaslarda sıkıştırma planını Anadolu'da dost bir devlet ile bozmak istemesi,
- IV. TBMM'nin halkçılık programının Sovyet Rusya'nın görüşlerine uygun olması,
- V. TBMM'nin Sovyet Rusya'nın yönetim anlayışını benimsemesi

**durumlarından hangileri etkili olmamıştır?**

- A) I    B) II    C) III    D) IV    E) V

**19. TBMM'nin ilk anayasası olan Teşkilat-ı Esasiye Kanunu'nun ortaya çıkmasında aşağıdakilerden hangisinin etkisinin olduğu söylenemez?**

- A) Amasya Genelgesi'nden itibaren gelişen fikirlerin
- B) TBMM'nin 24 Nisan 1920'deki önergesinin
- C) Devletin siyasi ve idari politikalarını belirleyen 13 Eylül 1920 tarihli halkçılık programının
- D) Saltanatın kaldırılmasının
- E) Düzenli ordunun I. İnönü başarısının

**20. Misakımillî'de yer aldığı halde Lozan Barış Konferansı'nda gündeme gelmeyen konu aşağıdakilerden hangisidir?**

- A) Halk oylaması
- B) Sınırlar
- C) Boğazlar
- D) Kapitülasyonlar
- E) Azınlıklar

**21. TBMM 1 Kasım 1922'de saltanatı kaldırdığı halde, halifelik kurumuna dokunmamıştır.**

**Aşağıdakilerden hangisi, bu durumun nedenidir?**

- A) İngiltere'den destek alma düşüncesi
- B) Ortam ve koşulların henüz oluşmaması
- C) Teokratik düzeni devam ettirme düşüncesi
- D) Bu kurumu kaldırarak askerî gücün olmaması
- E) Halifelikte seçim usulünü devam ettirme anlayışı

**22. Türk Devrimi'nin sürekliliğini ve gelişmeye açık olmasını sağlayan ilke, aşağıdakilerden hangisidir?**

- A) Cumhuriyetçilik
- B) İnkılapçılık
- C) Halkçılık
- D) Devletçilik
- E) Milliyetçilik

**23. Türkiye'de cumhuriyetin ilanı öncesinde Hükûmetin başında aşağıdakilerden hangisi yer almıştır?**

- A) H. Rauf Bey (Orbay)
- B) Fevzi Paşa (Çakmak)
- C) İsmet Paşa (İnönü)
- D) A. Fethi Bey (Okyar)
- E) Mustafa Kemal Paşa (Atatürk)

**24. Türkiye'de kadınlar ilk kez aşağıdaki hangi yılda yapılan genel seçimlerde oy kullanmışlardır?**

- A) 1931    B) 1927    C) 1939  
D) 1935    E) 1946



## 25. Türkiye'de,

- I. varlık vergisi uygulaması,
- II. planlı sanayileşme ve kalkınmanın başlaması,
- III. yarışmacı anlamda ilk seçimlerin yapılması

**gelişmelerinden hangileri Atatürk Dönemi'nde olmuştur?**

- A) Yalnız I
- B) Yalnız II
- C) Yalnız III
- D) I ve III
- E) I, II ve III

## 26. I. Saltanatın kaldırılması

- II. Cumhuriyetin ilan edilmesi
- III. Halifeliğin kaldırılması

**Yukarıda verilenlerin hangilerinde Türkiye'nin dış politikası ile ilgili gelişmelerin doğrudan etkisi olmuştur?**

- A) Yalnız I
- B) Yalnız II
- C) I ve II
- D) II ve III
- E) I ve III

## 27. İngiltere'nin Hatay konusunda Türkiye'den yana olmasında aşağıdakilerden hangisi etkili olmuştur?

- A) Orta Doğu'da Fransa'yı etkisiz hale getirme düşüncesi
- B) Türkiye'nin Nato'ya girmiş olması
- C) Türkiye'nin Kore Savaşı'na asker göndermesi
- D) Türkiye'nin Birleşmiş Milletler örgütünün kurucu üyesi olması
- E) Türkiye'nin Almanya'ya savaş ilan etmesi

## 28. Almanya ve Japonya gibi Mihver Devletlere 1 Mart 1945 tarihine kadar savaş açmış devletlerin Birleşmiş Milletlere kurucu üye olarak kabul edileceğinin belirlendiği konferans aşağıdakilerden hangisidir?

- A) Postdam Konferansı
- B) Yalta Konferansı
- C) Washington Konferansı
- D) Kahire Konferansı
- E) Moskova Konferansı

## 29. I. Marshal Planı dahilinde Amerika'dan ekonomik yardım alınması

II. Rodos ve Oniki Ada'nın İtalya'dan Yunanistan'a geçmesi

III. Türk ve Rum nüfuslarının yer değiştirmesi

**gelişmelerinden hangileri, Atatürk Dönemi'nde meydana gelmiştir?**

- A) Yalnız I
- B) Yalnız II
- C) Yalnız III
- D) I ve II
- E) I, II ve III

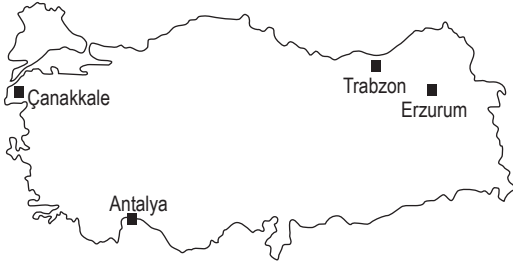
## 30. Türkiye,

- 1934'te Balkan Antantı'nı,
- 1936'da Akdeniz Paktı'nı,
- 1937'de de Sadabat Paktı'nı oluşturmuştur.

**Aşağıdakilerden hangisi Türkiye'nin bu çalışmalarla ulaşmak istediği bir amaçtır?**

- A) Yayılmacı politikaları desteklemek
- B) Gruplaşmalara son vermek
- C) İttifakların dışında kalmak
- D) Ülke ve bölge güvenliğini korumak, barışa katkı sağlamak
- E) Savaşa katılarak çıkar sağlamak

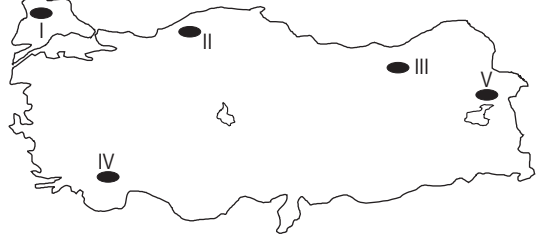
31.



Yukarıdaki Türkiye haritasında verilen merkezlerin matematik konumları ile ilgili olarak aşağıdaki bilgilerden hangisi yanlıştır?

- A) Gölge boyu yıl boyunca Antalya' da en kısa yaşanır.
- B) 21 Haziran'da en uzun gündüz Antalya' da yaşanır.
- C) Çanakkale ile Erzurum'da gece-gündüz süreleri birbirine yakındır.
- D) Çizgisel hız Antalya'da fazladır.
- E) 21 Aralık'ta en uzun gece Trabzon'da yaşanır.

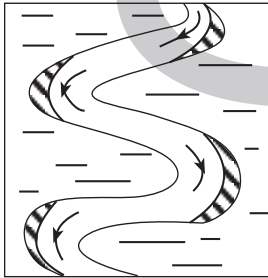
33. Ülkemiz akarsularından bazılarının kar ve buz erimeleri ile beslenmelerinden yaz başlarında taşıdıkları su miktarı artar.



Yukarıdaki Türkiye haritasında taralı olan hangi alanda bu tür akarsular görülür?

- A) I ve II
- B) I ve III
- C) II ve IV
- D) II ve V
- E) III ve V

32.



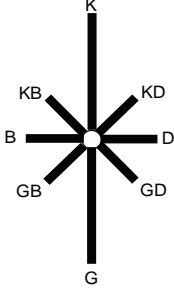
Şekildeki gibi akışa sahip olan bir akarsuyun bulunduğu bölge hakkında aşağıdaki yorumlardan hangisi yapılabilir?

- A) Düz araziler geniş yer tutmaktadır.
- B) Kıyılarında delta oluşumu güçtür.
- C) Derin vadiler görmek olasıdır.
- D) Plaj, koy ve körfez bakımından fakir kıyılara sahiptir.
- E) Akarsuları derine aşındırma yaparlar.

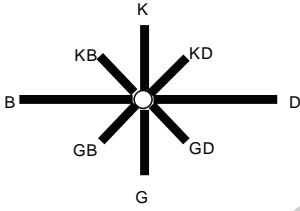
34. Yurdumuzda yer şekillerinin farklılık göstermesi, rüzgârların da bundan etkilenerek esiş yönlerinin farklı olmasını sağlamıştır.

Buna göre, aşağıdaki rüzgâr frekans güllerinden hangisi, İstanbul ve Çanakkale boğazlarının yer şekillerine uygun bir şekilde yıl boyunca esiş yönünü gösteren rüzgâr frekans gülüdür?

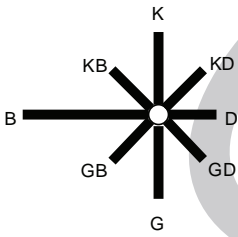
A)



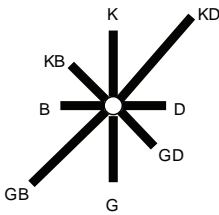
B)



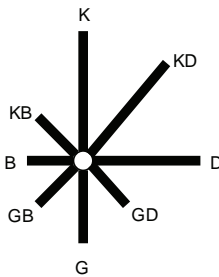
C)



D)



E)



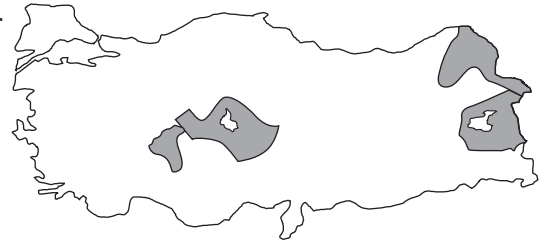
35. Birleşmiş Milletler Örgütü'nün "İnsani Gelişmişlik Endeksi", bir ülkede yaşayan insanların yaşam kalitesinin yüksekliğine göre belirlenmiştir.

Ülkemizin herhangi bir bölgesinin gelişmişlik düzeyini, aşağıdaki nüfusla ilgili bilgilerden hangisi yansıtmaz?

- A) Kişi başına tüketilen enerji miktarı
- B) Kişi başına düşen millî gelir
- C) Toplanan vergi miktarı
- D) Şehirleşme oranı
- E) Km<sup>2</sup>'ye düşen insan sayısı

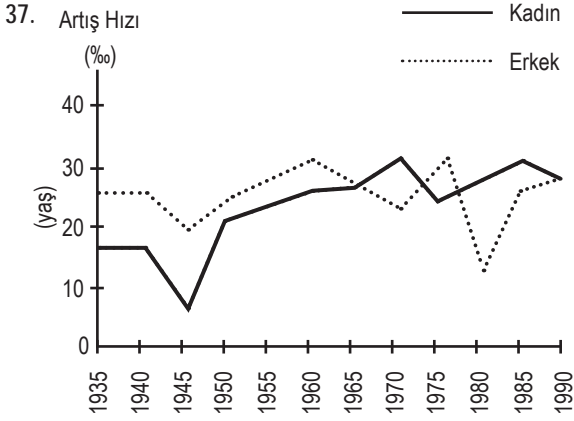
YEDİİKLİM®

36.



Yukarıdaki Türkiye haritasında aşağıdakilerden hangisinin dağılışı gösterilmiştir?

- A) Deprem bölgeleri
- B) Kapalı havzalar
- C) Heyelan bölgeleri
- D) Volkanik sahalar
- E) Karstik sahalar



Yukarıdaki grafikte Türkiye'de 1935-1990 yılları arasındaki kadın ve erkek nüfusunun artış hızları verilmiştir.

**Bu grafiğe göre aşağıdaki yorumlardan hangisi yapılamaz?**

- A) Kadın nüfusunda en düşük artış 1945 yılında yaşanmıştır.
- B) 1965 ve 1990 yıllarında erkek ve kadın nüfusunun artış hızları aynı oranda olmuştur.
- C) Erkek nüfusunda en az artış oranı 1980 yılında gerçekleşmiştir.
- D) Kadın ve erkek nüfusundaki artış oranı tüm yıllar içinde birbirine paraleldir.
- E) 1935 ve 1990 yıllarındaki erkek nüfus artış oranları birbirine oldukça yakındır.

39. I. Pirinç  
II. Haşhaş  
III. Mısır  
IV. Kenevir  
V. Zeytin

**Yukarıdaki tarım ürünlerinden hangileri devlet kontrolü altında, sınırlı alanlarda üretilmektedir?**

- A) Yalnız II  
B) I ve II  
C) I, II ve IV  
D) I, II, III ve IV  
E) II, IV ve V

40. Türkiye'de en yaygın sektör gıda, en çok işçi çalıştırılan sanayi sektörü ise tekstildir.

**Bu durum,**

- I. ham madde temininin kolay, ucuz ve bol olması,  
II. işçiliğinin nitelik gerektirmemesi,  
III. tekstil sektörünün yurt çapında yaygın olması
- özelliklerinden hangileri ile ilgili değildir?**

- A) Yalnız I  
B) Yalnız II  
C) I ve II  
D) I ve III  
E) II ve III

38. Türkiye'de intansif adı verilen modern tarım yöntemleri ile birim alandan alınan verimi arttırmak için,

- I. tohum ıslahı,  
II. nöbetleşe ekim,  
III. tarım alanlarını genişletme,  
IV. gübre kullanımının yaygınlaştırılması,  
V. sulama tesislerinin artırılması

**gibi uygulamalardan hangisi etkili bir yöntem olmaz?**

- A) I  
B) II  
C) III  
D) IV  
E) V

41. I. İhracatının büyük kısmını oluşturması  
II. Ham maden ithalatımızın artması  
III. Sanayi sektöründe çalışan nüfusun sürekli artması

**Yukarıdakilerden hangileri, sanayinin Türkiye ekonomisi içinde önem kazandığının göstergesidir?**

- A) Yalnız I  
B) I ve II  
C) I ve III  
D) II ve III  
E) I, II ve III

42. Yurdumuzda son yıllar içinde enerji ihtiyacını karşılamak için çeşitli alternatifler üzerinde yatırımlar yapılmaktadır.

**Aşağıdaki seçeneklerden hangisi ülkemizin enerji açığını karşılamak adına doğru bir tercih olamaz?**

- A) Jeotermal                      B) Güneş  
C) Linyit                              D) Doğal gaz  
E) Nükleer

43. Aşağıdaki kent çiftlerinden hangi ikisi arasındaki yol yapım maliyetleri daha düşüktür?

- A) Erzurum - Kars  
B) Antalya - Isparta  
C) Bolu - Sinop  
D) Diyarbakır - Şanlıurfa  
E) Van - Hakkâri

44. Türkiye'de bölgeler arası gelişim düzeyinin farklı olması ekonomimiz üzerinde ciddi bir sorun olarak göze çarpmaktadır. Bu sorunu gidermek için çeşitli teşvik politikaları uygulanmaktadır.

**Aşağıdakilerden hangisi geri kalmış yöreler için uygulanan yatırım çeken teşvikler arasında gösterilemez?**

- A) Vergi ve gümrük kolaylıklarının sağlanması  
B) Ucuz enerji temininin sağlanması  
C) Ücretsiz ilaç, tohum ve gübre sağlanması  
D) Besi hayvancılığının teşvik edilmesi  
E) İşçi ücretlerinin artırılması

45. Akdeniz Bölgesi'nin batısı, Türkiye ekonomisine aşağıdaki seçeneklerden hangisi ile daha az katkı sağlamaktadır?

- A) Kıyı balıkçılığı                      B) Çiçekçilik  
C) Turizm                                  D) Alüminyum  
E) Turunçgiller

46. Akdeniz Bölgesi'nin nüfus ve yerleşme özellikleri ile ilgili olarak aşağıda verilen seçeneklerden hangisi yanlıştır?

- A) Adana Bölümü'nde yer şekilleri nüfusun artmasına sebep olmuştur.  
B) Göller yöresinde kırsal nüfus oranı yüksektir.  
C) Kırsalda ahşap meskenler yaygındır.  
D) Çukurova'da tarım kadar sanayisinin de gelişmesi nüfusu artırmıştır.  
E) Bölge yaz mevsiminde yoğun bir şekilde geçici göç almaktadır.

47. Kastamonu'nun Küre ilçesinde çıkarılan yer altı kaynağı aşağıdaki illerden hangisinden çıkarılır?

- A) Elazığ                                      B) Samsun  
C) Konya                                      D) Zonguldak  
E) Mardin

48. Aşağıdaki ifadelerden hangisi, Doğu Anadolu Bölgesi'nde gezi yapan bir kişinin karşılaşacağı bir durum değildir?

- A) Elazığ'da bakır çıkarılan yerlerin bulunması
- B) Muş'ta verimli otlakların varlığı
- C) Demir çıkarılan yerlerde demir-çelik sanayinin gelişmiş olması
- D) Elazığ'da tatlı su balıkçılığının ve çiftliklerin yaygınlaştığını görmesi
- E) Van'da volkanik şekillere, peribacalarına rastlaması

49. Aşağıdakilerin hangisi hukukun yaptırımlarından biri değildir?

- A) Ceza
- B) Cebri icra
- C) Tazminat
- D) Meşru müdafaa
- E) Yokluk

50. Kişilerin belli bir olay ya da durumda nasıl ve ne şekilde davranması gerektiğini belirten kurallar aşağıdaki sosyal hayatı düzenleyen kurallardan hangisidir?

- A) Ahlak
- B) Görgü
- C) Din
- D) Hukuk
- E) Eğitim

51. Aşağıdakilerden hangisi servet üzerinden alınan vergilerden değildir?

- A) Emlak vergisi
- B) Motorlu taşıtlar vergisi
- C) İntikal vergisi
- D) Kurumlar vergisi
- E) Veraset vergisi

52. Aşağıdakilerden hangisi 1892 Anayasası'nın başlangıç bölümünde yer alan ilkelerden değildir?

- A) Millî egemenlik
- B) Laiklik
- C) Atatürk milliyetçiliği
- D) Anayasanın üstünlüğü
- E) Kuvvetler birliği

53. Aşağıdakilerden hangisi 1982 Anayasası'na göre seçimlerde oy kullanabilir?

- A) Tutuklular
- B) 18 yaşından küçükler
- C) Askerî öğrenciler
- D) Silah altında bulunan erler
- E) Türk vatandaşı olmayanlar

54. I. Yargıtay

II. Danıştay

III. Sayıştay

IV. Askeri Yargıtay

V. Uyuşmazlık mahkemesi

**Yüksek Seçim Kurulu üyeleri yukarıdaki hangi organlar arasından seçilerek oluşturulur?**

- A) Yalnız I
- B) I ve II
- C) I, II ve III
- D) I, II, III ve IV
- E) III, IV ve V

55. 1982 Anayasası'na göre, aşağıdakilerden hangisi hem olağanüstü hâl hem de sıkıyönetim ilanı için öngörülen ortak bir nedendir?

- A) Tabi afet
- B) Savaş hali
- C) Yaygın şiddet
- D) Ağır ekonomik bunalım
- E) Tehlikeli salgın hastalık

56. Cumhurbaşkanı'nın vatana ihanetle suçlanması halinde, onu yargılayacak olan makam aşağıdakilerden hangisidir?

- A) Yargıtay
- B) Danıştay
- C) Askerî Yüksek İdare Mahkemesi
- D) Yüce Divan sıfatıyla Anayasa Mahkemesi
- E) Ağır Ceza Mahkemesi

57. 2010 yılında yapılan son anayasa değişikliği de dikkate alındığında Anayasa Mahkemesinin yapısı ile ilgili aşağıdaki ifadelerden hangisi yanlıştır?

- A) 17 üyeden oluşur.
- B) Süresi dolan üyeler tekrar seçilebilir.
- C) Üyeleri Cumhurbaşkanı ve Meclis tarafından seçilir.
- D) Üyelerin görev süresi 12 yıldır.
- E) Üyeler 65 yaşını doldurunca emekliye ayrılır.

58. Aşağıdakilerden hangisi köy ihtiyar heyetinin doğal üyesidir?

- A) Öğretmen
- B) Veteriner
- C) Muhtar
- D) Sağlık memuru
- E) Koruyucu

59. Aşağıdaki ülkelerden hangisi Avrupa Birliği'ne üye olmasına rağmen Schengen Anlaşması'na üye değildir?

- A) Almanya
- B) İspanya
- C) İsveç
- D) İrlanda
- E) Fransa

60. 2012 yılında sona eren Kyoto Protokolü yerine aşağıdaki sözleşmelerden hangisi yürürlüğe girecektir?

- A) Bali Sözleşmesi
- B) Ramsar Sözleşmesi
- C) Roma Anlaşması
- D) Lizbon Anlaşması
- E) Schengen Anlaşması

TEST BİTTİ.

CEVAPLARINIZI KONTROL EDİNİZ.